

סטודנטים יקרים

לפניכם ספר תרגילים בקורס הסתברות.
הספר הוא חלק מקורס חדשני וראשון מסוגו בארץ בנושא זה,
המועבר ברשת האינטרנט On-line.

הקורס באתר כולל פתרונות מלאים לספר התרגילים, וכן את
התיאוריה הרלוונטית לכל נושא ונושא.

**הקורס כולו מוגש בסרטוני וידאו המלווים בהסבר קולי, כך שאתם
רואים את התהליכים בצורה מובנית, שיטתית ופשוטה, ממש כפי
שנעשה בשיעור פרטי, לדוגמה [להצו כאן](#).**

את הקורס בנה מר ברק קנדל, מרצה מבוקש במוסדות אקדמיים
שונים ובעל ניסיון עתיר בהוראת המקצוע.

אז אם אתם עסוקים מידי בעבודה, סובלים מלקויות למידה, רוצים
להצטיין או פשוט אוהבים ללמוד בשקט בבית, אנחנו מזמינים אתכם
לחויית לימודים יוצאת דופן וחדשה לחלוטין, היכנסו עכשיו לאתר
www.gool.co.il.



אנו מאחלים לכם הצלחה מלאה בבחינות

צוות האתר GooL

גול זה בול. בשבילך!

לפתרון מלא בסרטון וידאו היכנסו ל- www.GooL.co.il

כתב ופתר - ברק קנדל ©

תוכן

פרק 1 - בעיות בסיסיות בהסתברות	3
פרק 2 - פעולות בין מאורעות (חיתוך ואיחוד), מאורעות זרים ומכילים	8
פרק 3 - קומבינטוריקה - כלל המכפלה	18
פרק 4 - קומבינטוריקה - דגימה סידורית ללא החזרה ועם החזרה	22
פרק 5 - קומבינטוריקה - דגימה ללא סדר וללא החזרה	25
פרק 6 - הסתברות מותנית - במרחב מדגם אחיד	29
פרק 7 - הסתברות מותנית - מרחב לא אחיד	31
פרק 8 - דיאגרמת עצים, נוסחת בייס ונוסחת ההסתברות השלמה	36
נוסחת בייס	37
פרק 9 - תלות ואי תלות בין מאורעות	42
פרק 10 - שאלות מסכמות בהסתברות	46
פרק 11 - המשתנה המקרי הבדיד - פונקציית ההסתברות	50
פרק 12 - המשתנה המקרי הבדיד - תוחלת, שונות וסטיית תקן	54
פרק 13 - המשתנה המקרי הבדיד - טרנספורמציה לינארית	58
פרק 14 - תוחלת ושונות של סכום משתנים מקריים	62
פרק 15 - התפלגויות בדידות מיוחדות - התפלגות בינומית	65
פרק 16 - התפלגויות בדידות מיוחדות - התפלגות גיאומטרית	70
פרק 17 - התפלגויות בדידות מיוחדות - התפלגות אחידה	74
פרק 18 - התפלגויות בדידות מיוחדות - התפלגות פואסונית	77
פרק 19 - התפלגויות בדידות מיוחדות - התפלגות היפרגאומטרית	81
פרק 20 - המשתנה המקרי הבדיד - שאלות מסכמות	84
פרק 21 - המשתנה המקרי הרציף - התפלגויות כלליות (שימוש באינטגרלים)	89
פרק 22 - התפלגויות רציפות מיוחדות - התפלגות מעריכית	99
פרק 23 - התפלגויות רציפות מיוחדות - התפלגות אחידה	103
פרק 24 - משתנה דו מימדי בדיד - פונקציית הסתברות משותפת	106
פרק 25 - משתנה דו מימדי בדיד - מתאם בין משתנים	111
פרק 26 - המשתנה המקרי הדו ממדי - קומבינציות לנאריות	117

פרק 1 - בעיות בסיסיות בהסתברות

רקע :

ניסוי מקרי : תהליך לו כמה תוצאות אפשריות. התוצאה המתקבלת נודעת רק לאחר ביצוע התהליך.

למשל : תוצאה בהטלת קובייה, מזג האוויר בעוד שבועיים .

מרחב מדגם : כלל התוצאות האפשריות בניסוי המקרי :

בהטלת קובייה : $\{1,2,3,4,5,6\}$.

מזג האוויר בעוד שבועיים : $\{ \text{נאה, שרבי, מושלג, גשום, מעונן חלקית, אביך} \}$

מאורע : תת קבוצה מתוך מרחב במדגם. מסומן באותיות : A, B, C, \dots

בהטלת קובייה, למשל, לקבל לפחות 5 : $A = \{5, 6\}$

לקבל תוצאה זוגית : $B = \{2, 4, 6\}$

גודל מרחב המדגם : מספר התוצאות האפשריות במרחב המדגם :

בהטלת הקובייה : $|\Omega| = 6$

גודל המאורע : מספר התוצאות האפשריות במאורע עצמו.

בהטלת הקובייה : $|A| = 2$ $|B| = 3$

מאורע משלים : מאורע המכיל את כל התוצאות האפשריות במרחב המדגם פרט לתוצאות במאורע אותו הוא משלים :

בהטלת הקובייה : $\bar{A} = \{1, 2, 3, 4\}$ $\bar{B} = \{1, 3, 5\}$

מרחב מדגם אחיד (סימטרי) : מרחב מדגם בו לכל התוצאות במרחב המדגם יש את אותה עדיפות, אותה סבירות למשל, קובייה הוגנת, אך לא כמו מזג האוויר בשבוע הבא.

הסתברות במרחב מדגם אחיד :

במרחב מדגם אחיד הסיכוי למאורע יהיה : $p(A) = \frac{|A|}{|\Omega|}$

למשל, מה הסיכוי בהטלת קובייה לקבל לפחות 5? $p(A) = \frac{|A|}{|\Omega|} = \frac{2}{6}$

מה הסיכוי בהטלת קובייה לקבל תוצאה זוגית? $p(B) = \frac{|B|}{|\Omega|} = \frac{3}{6}$

הסתברות במרחב לא אחיד :

יחושב לפי השכיחות היחסית : $\frac{f}{n}$

להלן התפלגות הציונים בכיתה מסוימת :

מספר התלמידים – השכיחות-f	הציון X-
2	5
4	6
8	7
5	8
4	9
2	10

א. מה ההסתברות שתלמיד אקראי שניבחר בכיתה קיבל את הציון 8? $\frac{f}{n} = \frac{5}{25} = 0.2$

ב. מה ההסתברות שתלמיד אקראי שניבחר בכיתה יכשל?

$$\frac{f}{n} = \frac{2}{25} = 0.08$$

הסתברות למאורע משלים :

$$p(\bar{A}) = 1 - P(A)$$

למשל, בדוגמה הקודמת הסיכוי לעבור את הבחינה יכול להיות מחושב לפי הסיכוי להיכשל :

$$p(A) = 1 - \frac{2}{25} = \frac{23}{25}$$

תרגילים:

1. מהאותיות E, F ו-G יוצרים מילה בת 2 אותיות לא בהכרח בת משמעות.
 - א. הרכב את כל המילים האפשריות.
 - ב. רשום את המקרים למאורע:
 - A במילה נמצאת האות E.
 - B במילה האותיות שונות.
 - ג. רשום את המקרים למאורע \bar{A} .

2. מטילים זוג קוביות.
 - א. רשום את מרחב המדגם של הניסוי. האם המרחב מדגם הוא אחיד?
 - ב. רשום את כל האפשרויות למאורעות הבאים:
 - A סכום התוצאות 7.
 - C מכפלת התוצאות 12.
 - ג. חשב את הסיכויים למאורעות שהוגדרו בסעיף ב.

3. בוחרים באקראי ספרה מבין הספרות 0-9.
 - א. מה ההסתברות שהספרה שנבחרה גדולה מ-5?
 - ב. מה ההסתברות שהספרה שנבחרה היא לכל היותר 3?
 - ג. מה ההסתברות שהספרה שנבחרה היא אי זוגית?

4. להלן התפלגות מספר מקלטי הטלוויזיה שנספרו עבור כל משפחה בישוב מסוים:

מספר משפחות	מספר מקלטים
22	0
28	1
18	2
22	3
10	4

- נבחרה משפחה באקראי מהישוב.
- א. מה ההסתברות שאין מקלטים למשפחה?
 - ב. מה ההסתברות שיש מקלטים למשפחה?
 - ג. מה ההסתברות שיש לפחות 3 מקלטים למשפחה?

5. להלן התפלגות מספר המכונניות למשפחה ביישוב "עדן":

מספר משפחות	מספר מכונניות
20	0
40	1
100	2
30	3
10	4

נבחרה משפחה אקראית מן הישוב.

א. מה ההסתברות שאין לה מכונניות?

ב. מה ההסתברות שבבעלות המשפחה לפחות 3 מכונניות?

ג. מה הסיכוי שבבעלותה פחות מ-3 מכונניות?

6. מטילים מטבע רגיל 3 פעמים. בצד אחד של המטבע מוטבע עץ ובצד השני פלי.

א. רשום את מרחב המדגם של הניסוי. האם המרחב מדגם הוא אחיד?

ב. רשום את כל האפשרויות למאורעות הבאים:

A - התקבל פעם אחת עץ.

D - התקבל לפחות פלי אחד.

ג. מהו המאורע המשלים ל-D.

ד. חשבו את הסיכויים למאורעות שהוגדרו בסעיפים ב-ג.

פתרונות:**שאלה 2**

ג. הסיכוי ל-A: $\frac{1}{6}$

הסיכוי ל-B: $\frac{1}{9}$

שאלה 3

א. 0.4

ב. 0.4

ג. 0.5

שאלה 4

א. 0.22

ב. 0.78

ג. 0.32

פרק 2 - פעולות בין מאורעות (חיתוך ואיחוד), מאורעות זרים ומכילים


רקע:

פעולת חיתוך:

נותנת את המשותף בין המאורעות הנחתכים, חיתוך בין המאורע A למאורע B יסומן כך:

$$A \cap B$$

מדובר בתוצאות שנמצאות ב-A וגם ב-B.



בהטלת קובייה, למשל, לקבל לפחות 5 : $A = \{5, 6\}$


לקבל תוצאה זוגית : $B = \{2, 4, 6\}$

$$A \cap B = \{6\}$$

פעולת איחוד:

נותנת את כל האפשרויות שנמצאות לפחות באחת מהמאורעות. הסימון הוא: $A \cup B$ נותנת את

אשר נימצא ב-A או ב-B. כלומר, לפחות אחד מהמאורעות קורה.



בהטלת קובייה, למשל, לקבל לפחות 5 : $A = \{5, 6\}$

לקבל תוצאה זוגית : $B = \{2, 4, 6\}$

$$A \cup B = \{2, 4, 5, 6\}$$

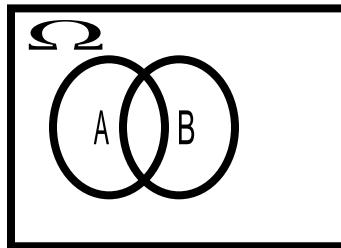
דוגמה (הפתרון נמצא בהקלטה)

סטודנט ניגש בסמסטר לשני מבחנים. מבחן בסטיסטיקה ומבחן בכלכלה. ההסתברות שלו לעבור את המבחן בסטיסטיקה הוא 0.9. ההסתברות שלו לעבור את המבחן בכלכלה הוא 0.8. ההסתברות לעבור את המבחן בסטיסטיקה ובכלכלה היא 0.75.

- א. מה ההסתברות שלו לעבור את המבחן בסטיסטיקה בלבד?
 ב. מה ההסתברות שלו להיכשל בשני המבחנים?
 ג. מה ההסתברות לעבור לפחות מבחן אחד?

נוסחת החיבור לשני מאורעות :

$$p(A \cup B) = P(A) + P(B) - P(A \cap B)$$

חוקי דה מורגן לשני מאורעות:

$$\overline{A \cup B} = \bar{A} \cap \bar{B}$$

$$\overline{A \cap B} = \bar{A} \cup \bar{B}$$

$$P(A \cap B) = 1 - P(\bar{A} \cup \bar{B})$$

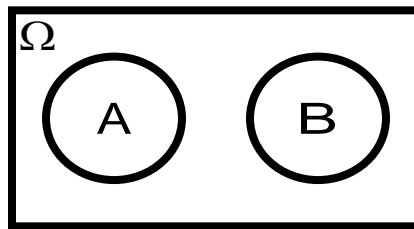
$$P(A \cup B) = 1 - P(\bar{A} \cap \bar{B})$$

שיטת ריבוע הקסם:

השיטה רלבנטית רק אם יש שני מאורעות במקביל בדומה לתרגיל הקודם:

	\bar{A}	A	
B	$P(\bar{A} \cap B)$	$P(A \cap B)$	$P(B)$
\bar{B}	$P(\bar{A} \cap \bar{B})$	$P(A \cap \bar{B})$	$P(\bar{B})$
	$P(\bar{A})$	$P(A)$	1

מאורעות זרים: מאורעות שאין להם מהמשותף: לא יכולים להתרחש בו זמנית.



$$A \cap B = \{\}$$

$$P(A \cap B) = 0$$

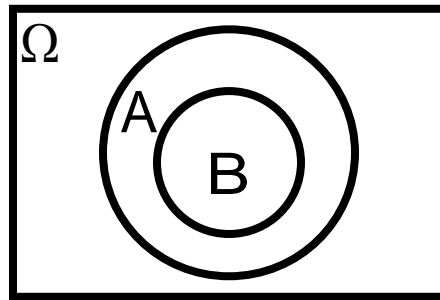
$$P(A \cup B) = P(A) + P(B)$$

למשל, בהטלת קובייה

$$A = \{5, 6\} \quad : \text{לקבל לפחות 5}$$

$$B = \{3\} \quad : \text{לקבל 3}$$

$$A \cap B = \{\}$$

מאורעות מכילים :

מאורע A מכיל את מאורע B כל התוצאות שנמצאות ב-B מוכלות בתוך המאורע-A.

קשר זה מסומן באופן הבא: $B \subset A$

$$A \cap B = B$$

$$A \cup B = A$$

$$P(A \cap B) = P(B)$$

$$P(A \cup B) = P(A)$$

למשל:

$$A = \{2, 4, 6\}$$

$$B = \{2, 4\}$$

תרגילים:

1. מהאותיות E, F ו-G יוצרים מילה בת 2 אותיות לא בהכרח בת משמעות. נגדיר את המאורעות הבאים :
- E במילה נמצאת האות E.
 -F במילה אותיות שונות.
 א. רשום את כל האפשרויות לחיתוך A עם B.
 ב. רשום את כל האפשרויות לאיחוד של A עם B.
2. תלמיד ניגש בסמסטר לשני מבחנים מבחן בכלכלה ומבחן בסטטיסטיקה. נגדיר את המאורעות הבאים :
- A לעבור את המבחן בסטטיסטיקה.
 -B לעבור את המבחן בכלכלה.
 העזר בפעולות חיתוך, איחוד ומשלים בלבד כדי להגדיר את המאורעות הבאים וסמן בדיאגרמת וון את השטח המתאים :
- א. התלמיד עבר רק את המבחן בכלכלה.
 ב. התלמיד עבר רק את המבחן בסטטיסטיקה.
 ג. התלמיד עבר את שני המבחנים.
 ד. התלמיד עבר לפחות מבחן אחד.
 ה. התלמיד נכשל בשני המבחנים.
 ו. התלמיד נכשל בכלכלה.
3. נתבקשתם לבחור ספרה באקראי. נגדיר את A להיות הספרה שנבחרה היא זוגית. נגדיר את B להיות הספרה שנבחרה קטנה מ-5.
 א. רשמו את כל התוצאות למאורעות הבאים :
- $A =$
 $B =$
 $\bar{B} =$
 $A \cap B =$
 $A \cup B =$
- ב. חשבו את ההסתברויות לכל המאורעות מהסעיף הקודם.

4. נסמן ב- Ω את מרחב המדגם וב- ϕ קבוצה ריקה.

נתון כי A הינו מאורע בתוך מרחב המדגם.

להלן מוגדרים מאורעות שפתרונם הוא Ω או ϕ או A .

קבע עבור כל מאורע מה הפתרון שלו.

$$\begin{aligned}
 &= \\
 &\bar{A} \\
 &A \cap \phi \\
 &A \cup \phi \\
 &A \cap \Omega \\
 &A \cup \Omega \\
 &A \cap \bar{A} \\
 &\bar{\phi} \\
 &A \cup \bar{A}
 \end{aligned}$$

5. הוגדרו המאורעות הבאים :

$A =$ אדם שגובהו מעל 1.7 מטר

$B =$ אדם גובהו מתחת ל-1.8 מטר

קבע את גובהם של האנשים הבאים :

א. $A \cap B$

ב. $A \cup B$

ג. $\bar{A} \cap B$

ד. $\bar{A} \cup \bar{B}$

ה. \bar{A}

6. נגדיר את המאורעות הבאים :

A - אדם דובר עברית.

B - אדם דובר ערבית.

C - אדם דובר אנגלית.

השתמש בפעולות איחוד, חיתוך והשלמה לתיאור המאורעות הבאים :

א. אדם דובר את כל שלוש השפות.

ב. אדם דובר רק עברית.

ג. אדם דובר לפחות שפה אחת מתוך השפות הללו.

ד. אדם אינו דובר אנגלית.

ה. קבוצת התלמידים דוברי 2 שפות בדיוק (מהשפות הנ"ל).

7. שתי מפלגות רצות לכנסת הבאה. מפלגת "גדר" תעבור את אחוז החסימה בהסתברות של 0.08. מפלגת עתיד תעבור את אחוז החסימה בהסתברות של 0.20. בהסתברות של 76% שתי המפלגות לא תעבורנה את אחוז החסימה.

א. מה ההסתברות שלפחות אחת מהמפלגות תעבור את אחוז החסימה?

ב. מה ההסתברות ששתי המפלגות תעבורנה את אחוז החסימה?

ג. מה ההסתברות שרק מפלגת "עתיד" תעבור את אחוז החסימה?

8. במקום עבודה מסוים 40% מהעובדים הם גברים. כמו כן 20% מהעובדים הם אקדמאים. 10% מהעובדים הינן נשים אקדמאיות.

א. איזה אחוז מהעובדים הם גברים אקדמאיים?

ב. איזה אחוז מהעובדים הם גברים או אקדמאיים?

ג. איזה אחוז מהעובדים הם נשים לא אקדמאיות?

9. הסיכוי של מניה A לעלות הנו 0.5 ביום מסוים והסיכוי של מניה B לעלות ביום מסוים הנו 0.4. בסיכוי של 0.7 לפחות אחת מהמניות תעלה ביום מסוים. חשב את ההסתברויות הבאות לגבי שתי המניות הללו ביום מסוים :

א. ששתי המניות תעלנה.

ב. שאף אחת מהמניות לא תעלנה.

ג. שמניה A בלבד תעלה.

10. מטילים זוג קוביות אדומה ושחורה. נגדיר את המאורעות הבאים:

A - בקובייה האדומה התקבלה התוצאה 4 ובשחורה 2.

B - סכום התוצאות משתי הקוביות 6.

C - מכפלת התוצאות בשתי הקוביות 10.

א. האם A ו-B מאורעות זרים?

ב. האם המאורע B מכיל את המאורע A?

ג. האם A ו-C מאורעות זרים?

ד. האם A ו-C מאורעות משלימים?

11. עבור המאורעות A ו-B ידועות ההסתברויות הבאות:

$$p(\bar{A} \cap \bar{B}) = 0.1 \quad p(B) = 0.3 \quad p(A) = 0.6$$

א. האם A ו-B מאורעות זרים?

ב. חשב את $p(\bar{A} \cap B)$

12. מטבע הוטל פעמיים. נגדיר את המאורעות הבאים:

A - קיבלנו עץ בהטלה הראשונה.

B - קיבלנו לפחות עץ אחד בשתי ההטלות.

איזו טענה נכונה?

א. A ו-B מאורעות זרים.

ב. A ו-B מאורעות משלימים.

ג. B מכיל את A.

ד. A מכיל את B.

13. בהגרלה חולקו 100 כרטיסים על 3 מהם רשום חופשה ועל 2 מהם רשום מחשב שאר

הכרטיסים ריקים. אדם קיבל כרטיס אקראי.

א. מה הסיכוי לזכות בחופשה או במחשב? האם המאורעות הללו זרים?

ב. מה ההסתברות לא לזכות בפרס?

.14

$$P(A) = 0.3$$

$$P(B) = 0.25$$

$$P(A \cup B) = 0.49$$

א. חשב את הסיכוי ל- $P(A \cap B)$

ב. האם A ו- B מאורעות זרים?

ג. מה ההסתברות שרק A יקרה או רק B יקרה?

.15 A ו- B מאורעות זרים. נתון ש: $2 \cdot P(B \cap \bar{A}) = P(A \cap \bar{B}) = P(\bar{A} \cap \bar{B})$

מה הסיכוי למאורע A ומה ההסתברות למאורע B?

.16 קבע אילו מהטענות הבאות נכונות:

א. $A \cap B = B \cap A$

ב. $\overline{A \cup B} = A \cap B$

ג. $A \cap B \cap C = A \cap B \cap (C \cup B)$

ד. $\overline{A \cap B \cap C} = \bar{A} \cup \bar{B} \cup \bar{C}$

פתרונות:**שאלה 7**

א. 0.24

ב. 0.04

ג. 0.16

שאלה 8

א. 10%

ב. 50%

ג. 50%

שאלה 9

א. 0.2

ב. 0.3

ג. 0.3

שאלה 10

א. לא.

ב. כן.

ג. כן.

ד. לא.

שאלה 11

א. כן

ב. 0.3

שאלה 12

התשובה הנכונה ג

שאלה 13

א. 0.05

ב. 0.95

שאלה 14

א. 0.06

ב. לא זרים

ג. 0.43

פרק 3 - קומבינטוריקה - כלל המכפלה

רקע:

כלל המכפלה:

כלל המכפלה הוא כלל שבאמצעותו אפשר לחשב את גודל המאורע או גודלו של מרחב המדגם.

אם לתהליך יש k שלבים : n_1 אפשרויות לשלב הראשון , n_2 אפשרויות לשלב השני ... n_k

אפשרויות לשלב k :

מספר האפשרויות לתהליך כולו יהיה : $n_1 \cdot n_2 \cdot n_3 \cdots n_k$

למשל, כמה אפשרויות יש למשחק בו מטילים קובייה וגם מטבע? (הסבר בהקלטה)

למשל, כמה לוחיות רישוי בני 5 תווים ניתן ליצור כאשר התו הראשון הוא אות אנגלי והיתר

ספרות? (הסבר בהקלטה)

תרגילים:

1. חשבו את מספר האפשרויות לתהליכים הבאים:
 - א. הטלת קובייה פעמים.
 - ב. מספר תלת ספרתי.
 - ג. בחירת בן ובת מכתה שיש בה שבעה בנים ועשר בנות.
 - ד. חלוקת שני פרסים שונים לעשרה אנשים שונים כאשר אדם לא יכול לקבל יותר מפרס אחד.

2. במסעדה מציעים ארוחה עסקית. בארוחה עסקית יש לבחור מנה ראשונה, מנה עיקרית ושתייה. האופציות למנה ראשונה הן: סלט ירקות, סלט אנטיפסטי ומרק היום. האופציות למנה עיקרית הן: סטייק אנטרקוט, חזה עוף בגריל, לזניה בשרית ולזניה צמחונית. האופציות לשתייה הן: קפה, תה ולימונדה.
 - א. כמה ארוחות שונות ניתן להרכיב בעזרת התפריט הזה?
 - ב. אדם מזמין ארוחה אקראית. חשב את ההסתברויות הבאות:
 1. בארוחה סלט ירקות, לזניה בשרית ולימונדה.
 2. בארוחה סלט, לזניה ותה.

3. בוחרים באקראי מספר בין חמש ספרות. חשבו את ההסתברויות הבאות:
 - א. המספר הוא זוגי.
 - ב. במספר כל הספרות שונות.
 - ג. במספר כל הספרות זהות.
 - ד. במספר לפחות שתי ספרות שונות.
 - ה. במספר לפחות שתי ספרות זהות.
 - ו. המספר הוא פלינדרום (מספר הנקרא מימין ומשמאל באותה צורה).

4. חמישה אנשים אקראיים נכנסו למעלית בבנין בן 8 קומות. חשבו את ההסתברויות הבאות:
 - א. כולם ירדו בקומה החמישית?
 - ב. כולם ירדו באותה קומה?
 - ג. כולם ירדו בקומה אחרת?
 - ד. ערך ודני ירדו בקומה השישית והיתר בשאר הקומות?

5. במפלגה חמישה עשר חברי כנסת. יש לבחור שלושה חברי כנסת לשלושה תפקידים שונים. בכמה דרכים ניתן לחלק את התפקידים אם:
- חבר כנסת יכול למלא יותר מתפקיד אחד.
 - חבר כנסת לא יכול למלא יותר מתפקיד אחד.
6. מטילים קובייה 4 פעמים.
- מה ההסתברות שכל התוצאות תהינה זהות?
 - מה ההסתברות של התוצאות תהינה שונות?
 - מה ההסתברות שלפחות שתי תוצאות תהינה זהות?
 - מה ההסתברות שלפחות שתי תוצאות תהינה שונות?
7. יש ליצור מילה בת חמש אותיות לא בהכרח עם משמעות מאותיות ה-ABC (26 אותיות) בת 5 אותיות.
- מה ההסתברות שבמילה שנוצרה אין האותיות A, D ו L?
 - מה ההסתברות שבמילה שנוצרה כל האותיות זהות?
 - מה ההסתברות שבמילה שנוצרה לפחות שתי אותיות שונות זו מזו?
 - מה ההסתברות שהמילה היא פלינדרום (מילה אשר משמאל לימין, ומימין לשמאל נקראת אותו הדבר).
8. יוצרים קוד עם a ספרות (מותר לחזור על אותה ספרה בקוד). חשבו את ההסתברויות הבאות: (בטאו את תשובותיכם באמצעות a)
- בקוד אין את הספרה 5.
 - בקוד מופיעה הספרה 3.
 - בקוד לא מופיעות ספרות אי זוגיות.
9. במשחק מזל יש למלא טופס בו n משבצות. כל משבצת מסומנת בסימון V או בסימון X. בכמה דרכים שונות ניתן למלא את טופס משחק המזל?

פתרונות :שאלה 2

- א. 36
 ב. $1/36$
 ג. $1/9$

שאלה 1

- א. 36
 ב. 900
 ג. 70
 ד. 90

שאלה 4

- א. 0.00003
 ב. 0.00024
 ג. 0.20508
 ד. 0.01047

שאלה 3

- א. 0.5
 ב. 0.3024
 ג. 0.0001
 ד. 0.9999
 ה. 0.6976
 ו. 0.01

שאלה 6

- א. $1/216$
 ב. $5/18$
 ג. $13/18$
 ד. $215/216$

שאלה 5

- א. 3,375
 ב. 2,730

שאלה 9

א. 2^n

שאלה 7

- א. 0.5417
 ב. $\frac{1}{26^4}$
 ד. 0.0015

פרק 4 - קומבינטוריקה - דגימה סידורית ללא החזרה ועם החזרה

רקע:

מדגם סדור בדגימה עם החזרה

מספר האפשרויות בדגימת k עצמים מתוך n עצמים שונים כאשר הדגימה היא עם החזרה והמדגם סדור הוא: n^k .

למשל,
בוחרים שלושה תלמידים מתוך עשרה לייצג ועד בו תפקידים שונים, תלמיד יכול למלא יותר מתפקיד אחד.
כמה ועדים שונים ניתן להרכיב?

$$n = 10$$

$$k = 3$$

$$10^3 = 1,000$$

מדגם סדור ללא החזרה

מספר האפשרויות בדגימת k עצמים שונים מתוך n עצמים שונים ($n \geq k$) כאשר המדגם סדור ואין החזרה של עצמים נדגמים הינו:

$$(n)_k = n(n-1)(n-2) \cdots (n-(k-1)) = \frac{n!}{(n-k)!}$$

למשל,
שלושה תלמידים נבחרים מתוך 10 לייצג וועד בו תפקידים שונים. תלמיד לא יכול למלא יותר מתפקיד אחד.

$$\frac{10!}{7!} = 10 \cdot 9 \cdot 8 = 720$$

תרגילים:

1. במפלגה 20 חברי כנסת, מעוניינים לבחור שלושה חברי כנסת לשלושה תפקידים שונים.
 - א. חבר כנסת יכול למלא יותר מתפקיד אחד. כמה קומבינציות ישנן לחלוקת התפקידים?
 - ב. חבר כנסת לא יכול למלא יותר מתפקיד אחד. כמה קומבינציות יש לחלוקת התפקידים?

2. במשחק מזל יש 4 משבצות ממוספרות מ A-D (A עד D). בכל משבצת יש למלא סיפרה (0-9). הזוכה הוא זה שניחש נכונה את כל הספרות בכל המשבצות בהתאמה.
 - א. מה ההסתברות לזכות במשחק?
 - ב. מה ההסתברות שבאף משבצת לא תהיה את הספרה 3 במספר הזוכה?
 - ג. מה ההסתברות שהתוצאה 4 תופיע לפחות פעם אחת במספר הזוכה?

3. קבוצה מונה 22 אנשים, מה ההסתברות שלפחות לשניים מהם יהיה יום הולדת באותו התאריך?

4. שלושה אנשים קבעו להיפגש במלון הילטון בסינגפור. הבעיה היא שבסינגפור ישנם 5 מלונות הילטון.
 - א. מה ההסתברות שכל השלושה ייפגשו?
 - ב. מה ההסתברות שכל אחד יגיע לבית מלון אחר?

5. בכיתה 40 תלמידים. מעוניינים לבחור חמישה מהם לוועד כיתה. בכמה דרכים ניתן להרכיב את הוועד אם:
 - א. בוועד 5 תפקידים שונים ותלמיד יכול למלא יותר מתפקיד אחד.
 - ב. בוועד 5 תפקידים שונים ותלמיד לא יכול למלא יותר מתפקיד אחד.

פתרונות :**שאלה 1 :**

א. 8000

ב. 6840

שאלה 2 :

א. 0.0001

ב. 0.6561

ג. 0.3439

שאלה 3 :

0.476

שאלה 4 :

א. 0.04

ב. 0.48

פרק 5 - קומבינטוריקה - דגימה ללא סדר וללא החזרה

רקע:

מדגם לא סדור בדגימה ללא החזרה

מספר האפשרויות לדגום k עצמים שונים מתוך n עצמים שונים כאשר אין משמעות לסדר העצמים הנדגמים ואין החזרה:

$$\frac{n!}{(n-k)!k!} = \binom{n}{k} = \frac{(n)_k}{k!}$$

דוגמה

מתוך 10 תלמידים יש לבחור שלושה נציגים לוועד ללא תפקידים מוגדרים:

$$\binom{10}{3} = \frac{10!}{7!3!} = 120$$

הערות

$$\binom{n}{k} = \binom{n}{n-k} \quad .1$$

$$\binom{n}{n-1} = \binom{n}{1} = n \quad .2$$

$$\binom{n}{n} = \binom{n}{0} = 1 \quad .3$$

תרגילים :

1. בכיתה 15 בנות ו-10 בנים. יש לבחור 5 תלמידים שונים מהכיתה לנציגות הכיתה. בכמה דרכים אפשר להרכיב את הנציגות אם-
 - א. אין שום הגבלה לבחירה.
 - ב. מעוניינים ש-3 בנות ו-2 בנים ירכיבו את המשלחת.
 - ג. לא יהיו בנים במשלחת.

2. סטודנט מעוניין לבחור 5 קורסי בחירה בסמסטר זה. לפניו רשימה של 10 קורסים לבחירה:
 - 5 במקצועות מדעי הרוח.
 - 3 במקצועות מדעי החברה.
 - 2 מתחום המתמטיקה.
 - א. כמה בחירות שונות הוא יכול ליצור לעצמו?
 - ב. כמה בחירות יש לו בהן 3 קורסים הם ממדעי הרוח?
 - ג. כמה בחירות יש לו אם 2 מהן לא ממדעי הרוח?
 - ד. כמה בחירות יש לו אם 2 ממדעי הרוח, 2 ממדעי החברה ו-1 ממתמטיקה?

3. בכיתה 30 תלמידים מתוכם 12 תלמידים ו-18 תלמידות. יש לבחור למשלחת 4 תלמידים מהכיתה. התלמידים נבחרים באקראי.
 - א. מה ההסתברות שהמשלחת תורכב רק מבנות?
 - ב. מה ההסתברות שבמשלחת תהיה רק בת אחת?
 - ג. מה ההסתברות שבמשלחת תהיה לפחות בת אחת?

4. במשחק הלוטו יש לבחור 5 מספרים מתוך 45. המספרים הם 1-45.
 - א. מה ההסתברות שבמשחק הזוכה כל המספרים הם זוגיים?
 - ב. מה ההסתברות שבמספר הזוכה יש לכל היותר מספר זוגי אחד?
 - ג. מה ההסתברות שבמספר הזוכה לפחות פעם אחת יש מספר זוגי?
 - ד. מה ההסתברות שבמספר הזוכה כל המספרים גדולים מ-30?

5. בחפיסת קלפים ישנם 52 קלפים : 13 בצבע שחור בצורת עלה, 13 בצבע אדום בצורת לב, 13 בצבע אדום בצורת יהלום ו- 13 בצבע שחור בצורת תלתן. מכל צורה (מתוך ה-4) יש 9 קלפים שמספרם 2-10, שאר הקלפים הם ; נסיך, מלכה, מלך ואס (בעצם מדובר בקופסת קלפים רגילה ללא ג'וקר). שני אנשים משחקים פוקר. כל אחד מקבל באקראי 5 קלפים (ללא החזרה).

- א. מה ההסתברות שעודד יקבל את כל המלכים וערן את כל המלכות?
- ב. מה ההסתברות שאחד השחקנים יקבל את הקלף אס-לב?
- ג. מה ההסתברות שערן יקבל קלפים שחורים בלבד ועודד יקבל שני קלפים שחורים בדיוק?
- ד. מה ההסתברות שערן יקבל לפחות 3 קלפים שהם מספר (אס אינו מספר)?

6. במכללה 4 מסלולי לימוד. בכל מסלול לימוד 5 מזכירות. יש ליצור וועד של 5 מזכירות מתוך כלל המזכירות במכללה. יוצרים וועד באופן אקראי. חשבו את ההסתברויות הבאות:

- א. כל המזכירות בוועד יהיו ממסלול "מדעי ההתנהגות".
- ב. כל המזכירות בוועד יהיו מאותו המסלול.
- ג. מכל מסלול תבחר לפחות מזכירה אחת.

פתרונות:שאלה 2

א. 252

ב. 100

ג. 100

ד. 60

שאלה 1

א. 53,130

ב. 20,475

ג. 3003

שאלה 4

א. 0.02

ב. 0.187

ג. 0.972

ד. 0.00246

שאלה 3

א. 0.1117

ב. 0.1445

ג. 0.9819

שאלה 6א. $6.45 \cdot 10^{-5}$ א. $2.58 \cdot 10^{-4}$

ב. 0.3225

פרק 6 - הסתברות מותנית - במרחב מדגם אחיד

רקע:

לעיתים אנו נדרשים לחשב הסתברות למאורע כלשהו כאשר ברשותנו אינפורמציה לגבי מאורע אחר. הסתברות מותנית הינה סיכוי להתרחשות מאורע כלשהו אשר ידוע שמאורע אחר התרחש/ לא התרחש.

ההסתברות של A בהינתן ש B כבר קרה:

$$P(A|B)$$

$$P(A|B) = \frac{|A \cap B|}{|B|} \quad \text{כשמרחב המדגם אחיד:}$$

למשל, (פתרון בהקלטה)

מטילים קובייה.

נגדיר:

A – התוצאה זוגית.

B – התוצאה גדולה מ-3.

נרצה לחשב את:

$$P(A|B)$$

תרגילים:

1. נבחרה ספרה זוגית באקראי. מה הסיכוי שהספרה גדולה מ-6?
2. יוסי הטיל קובייה. מה הסיכוי שקיבל את התוצאה 4 אם ידוע שהתוצאה שהתקבלה זוגית?
3. מטיילים צמד קוביות.
נגדיר:
A – סכום התוצאות בשתי ההטלות הינו 7
B – מכפלת התוצאות 12
חשבו את $P(A|B)$.
4. הוטל מטבע פעמיים. ידוע שהתקבל לכל היותר ראש אחד, מה הסיכוי שהתקבלו שני ראשים?
5. אדם הטיל זוג קוביות והתקבל שהתוצאות זהות. מה הסיכוי שלפחות אחת התוצאות 5?
6. אדם הטיל זוג קוביות והתקבל לפחות פעם אחת 4. מה הסיכוי שאחת התוצאות 5?
7. נבחרה משפחה בת שני ילדים. ידוע שאחד הילדים בן. מה ההסתברות שבמשפחה שני בנים בקרב הילדים?
8. נבחרה משפחה בת שלושה ילדים. נתון שהילד האמצעי בן. מה הסיכוי שיש בנות בקרב הילדים?

השאלות הבאות משלבות קומבינטוריקה:

9. בכיתה 6 בנים ו-7 בנות. נבחרו ארבעה ילדים מהכיתה.
אם ידוע שנבחרו 2 בנים ושתי בנות, מה הסיכוי שאלעד לא נבחר?
10. חמישה חברים יצאו לבית קולנוע והתיישבו זה ליד זה באקראי בכיסאות מספר 5 עד 9.
אם ידוע שערך ודין התיישבו זה ליד זה. מה ההסתברות שהם יושבים בכיסאות מספר 6 ו 7?

פתרונות:

לפתרון מלא בסרטון וידאו היכנסו ל- www.GooL.co.il

כתב ופתר - ברק קנדל ©

שאלה 1

0.2

שאלה 2

1/3

שאלה 3

0.5

שאלה 4

0

שאלה 5

1/6

שאלה 6

2/11

שאלה 7

1/3

שאלה 8

3/4

שאלה 9

2/3

שאלה 10

1/4

פרק 7 - הסתברות מותנית - מרחב לא אחיד

לפתרון מלא בסרטון וידאו היכנסו ל- www.GooL.co.il

כתב ופתר - ברק קנדל ©

רקע:

הסיכוי שמאורע A יתרחש בהינתן ש- מאורע B כבר קרה :

$$P(A|B) = \frac{P(A \cap B)}{P(B)}$$

במונה : הסיכוי לחיתוך של שני המאורעות זה הנשאל וזה הנתון שהתרחש.

במכנה : הסיכוי למאורע שנתון שהתרחש :

למשל,

נלקחו משפחות שיש להם שתי מכוניות. ל- 30% מהמשפחות הללו המכונית הישנה יותר היא מתוצרת אירופה ואצל 60% מהמשפחות הללו המכונית החדשה יותר מתוצרת אירופה. כמו כן 15% מהמשפחות הללו שתי המכוניות הן מתוצרת אירופאית.
 אם המכונית הישנה של המשפחה היא אירופאית, מה ההסתברות שגם החדשה אירופאית? (פתרון בהקלטה)

תרגילים:

1. תלמיד ניגש בסמסטר לשני מבחנים מבחן בכלכלה ומבחן בסטטיסטיקה:
 נגדיר את המאורעות הבאים: A - לעבור את המבחן בסטטיסטיקה. B - לעבור את המבחן בכלכלה.
 כמו כן נתון שהסיכוי לעבור את המבחן בכלכלה הנו 0.8 והסיכוי לעבור את המבחן בסטטיסטיקה הנו 0.9.
 הסיכוי לעבור את שני המבחנים הנו 0.75. חשבו את הסיכויים למאורעות הבאים:
- א. התלמיד עבר בסטטיסטיקה, מה ההסתברות שהוא עבר בכלכלה?
 - ב. התלמיד עבר בכלכלה, מה ההסתברות שהוא עבר בסטטיסטיקה?
 - ג. התלמיד עבר בכלכלה, מה ההסתברות שהוא נכשל בסטטיסטיקה?
 - ד. התלמיד נכשל בסטטיסטיקה מה ההסתברות שהוא נכשל בכלכלה?
 - ה. התלמיד עבר לפחות מבחן אחד מה ההסתברות שהוא יעבור את שני המבחנים?
2. במדינה שתי חברות טלפון סלולארי "סופט" ו"בל". 30% מהתושבים הבוגרים רשומים אצל חברת "בל". 60% מהתושבים הבוגרים רשומים אצל חברת "סופט".
 ל-15% מהתושבים הבוגרים אין טלפון סלולארי בכלל.
- א. איזה אחוז מהתושבים הבוגרים רשומים אצל שתי החברות?
 - ב. נבחר אדם שרשום אצל חברת "סופט", מה ההסתברות שהוא רשום גם אצל חברת "בל"?
 - ג. אם אדם לא רשום אצל חברת "בל", מה ההסתברות שהוא כן רשום בחברת "סופט"?
 - ד. אם אדם רשום אצל חברה אחת בלבד, מה ההסתברות שהוא רשום בחברת "סופט"?
3. במכללה שני חניונים: חניון קטן וחניון גדול. בשעה 08:00 יש סיכוי של 60% שבחניון הגדול יש מקום, סיכוי של 30% שבחניון הקטן יש מקום וסיכוי של 20% שבשני החניונים יש מקום.
- א. מה ההסתברות שיש מקום בשעה 08:00 רק בחניון הגדול של המכללה?
 - ב. ידוע שבחניון הקטן יש מקום בשעה 08:00, מה הסיכוי שבחניון הגדול יש מקום?
 - ג. אם בשעה 08:00 בחניון הגדול אין מקום, מה ההסתברות שבחניון הקטן יהיה מקום?
 - ד. נתון שלפחות באחד מהחניונים יש מקום בשעה 08:00, מה ההסתברות שבחניון הגדול יש מקום?
4. נלקחו 200 שכירים ו-100 עצמאים, מתוך השכירים 20 הם אקדמאיים, מתוך העצמאיים 30 הם אקדמאיים.
- א. בנו טבלת שכיחות משותפת לנתונים.
 - ב. נבחר אדם אקראי מהי ההסתברות שהוא שכיר?
 - ג. מה ההסתברות שהוא שכיר ולא אקדמאי?
 - ד. מה ההסתברות שהוא שכיר או אקדמאי?
 - ה. אם האדם שנבחר הוא עצמאי מהי ההסתברות שהוא אקדמאי?
 - ו. אם הבן אדם שנבחר הוא לא אקדמאי, מה ההסתברות שהוא שכיר?

5. חברה מסוימת פרסמה את הנתונים הבאים לגבי האזרחים מעל גיל 21 :
- הנתונים שהתקבלו היו : 40% מהאנשים מחזיקים כרטיס "ויזה", 52% מחזיקים כרטיס "ישראלכרט", 20% מחזיקים כרטיס "אמריקן אקספרס", 15% מחזיקים כרטיס ויזה וגם ישראלכרט, 8% מחזיקים כרטיס ישראלכרט וגם אמריקן אקספרס ו-7% מחזיקים כרטיס ויזה וגם אמריקן אקספרס. כמו כן, 5% מחזיקים בכל שלושת הכרטיסים הנ"ל.
- א. אם לאדם יש ויזה, מה הסיכוי שאין לו כרטיס ישראלכרט?
- ב. אם לאדם שני כרטיסי אשראי, מה הסיכוי שאין לו כרטיס ישראלכרט?
- ג. אם לאדם לפחות כרטיס אשראי אחד, מה הסיכוי שאין לו כרטיס ישראלכרט?

פתרונות:**שאלה 1**

- א. 0.833
- ב. 0.9375
- ג. 0.0625
- ד. 0.5
- ה. 0.789

שאלה 2

- א. 5%
- ב. 0.0833
- ג. 0.786
- ד. 0.6875

שאלה 3

- א. 0.4
- ב. $\frac{2}{3}$
- ג. 0.25
- ד. $\frac{6}{7}$

פרק 8 - דיאגרמת עצים, נוסחת בייס ונוסחת ההסתברות השלמה

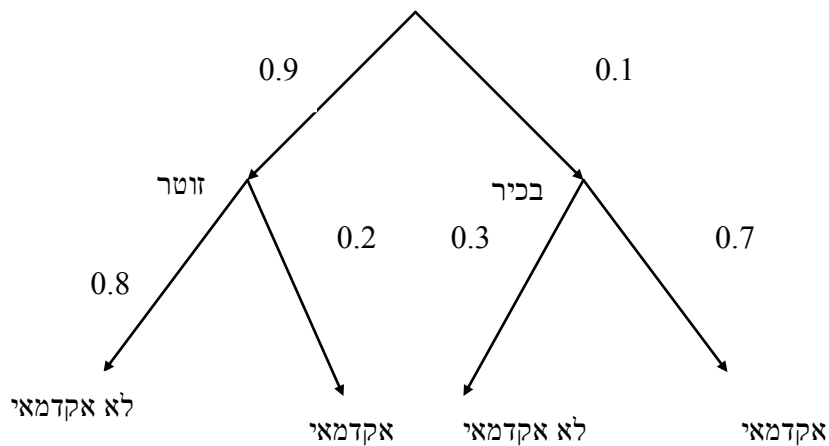
רקע:

נשתמש בשיטה זו כאשר יש תרגיל שבו התרחשות המאורעות היא בשלבים, כך שכל תוצאה של כל שלב תלויה בשלב הקודם, פרט לשלב הראשון:

למשל,

בחברה מסוימת 10% מוגדרים בכירים והיתר מוגדרים זוטרים.
מבין הבכירים 70% הם אקדמאים ומבין הזוטרים 20% הם אקדמאים.

נשרטט עץ שיתאר את הנתונים, השלב הראשון של העץ אינו מותנה בכלום ואילו השלב השני מותנה בשלב הראשון.



כדי לקבל את הסיכוי לענף מסוים נכפיל את כל ההסתברויות על אותו ענף.
נבחר אדם באקראי מאותה חברה.

א. מה הסיכוי שהוא בכיר אקדמאי?

$$0.1 * 0.7 = 0.07$$

ב. מה הסיכוי שהוא זוטר לא אקדמאי?

$$0.9 * 0.8 = 0.72$$

כדי לקבל את הסיכוי לכמה ענפים נחבר את הסיכויים של כל ענף (רק אחרי שבתוך הענף הכפלנו את ההסתברויות)

ג. מה הסיכוי שהוא אקדמאי ?

$$0.1 \cdot 0.7 + 0.9 \cdot 0.2 = 0.25$$

ד. נבחר אקדמאי מה ההסתברות שהוא עובד זוטרי?

מדובר כאן על שאלה בהסתברות מותנה ולכן נשתמש בעיקרון של הסתברות מותנה

$$P(zutar | academay) = \frac{0.9 \cdot 0.2}{0.25} = \frac{0.18}{0.25} = 0.72$$

נוסחת ההסתברות השלמה

B מאורע כלשהו, A_1, \dots, A_n חלוקה ממצה של Ω .

$$P(B) = \sum_{i=1}^n P(A_i) \cdot P(B/A_i) \quad \text{אזי:}$$

נוסחת בייס

$$P(A_j/B) = \frac{P(A_j)P(B/A_j)}{\sum_{i=1}^n P(A_i) \cdot P(B/A_i)}$$

תרגילים:

1. בשקית סוכריות 4 סוכריות תות ו-3 לימון . מוציאים באקראי סוכרייה אם היא בטעם תות אוכלים אותה ומוציאים סוכרייה נוספת , אך אם היא בטעם לימון מחזירים אותה לשקית ומוציאים סוכרייה נוספת.
 - א. מה ההסתברות שהסוכרייה הראשונה שהוצאה בטעם תות והשנייה בטעם לימון ?
 - ב. מה ההסתברות שהסוכרייה השנייה בטעם לימון?

2. באוכלוסיה מסוימת 30% הם ילדים, 50% בוגרים והיתר קשישים. לפי נתוני משרד הבריאות הסיכוי שילד יחלה בשפעת במשך החורף הוא 80%, הסיכוי שמבוגר יחלה בשפעת במשך החורף הוא 40% והסיכוי שקשיש יחלה בשפעת במשך החורף הוא 70%.
 - א. איזה אחוז מהאוכלוסייה הינו קשישים שלא יחלו בשפעת במשך החורף?
 - ב. מה אחוז האנשים שיחלו בשפעת במשך החורף?
 - ג. נבחר אדם שחלה במשך החורף בשפעת, מה ההסתברות שהוא קשיש?
 - ד. נבחר ילד, מה ההסתברות שהוא לא יחלה בשפעת במשך החורף?

3. בכד א' 5 כדורים כחולים ו-5 כדורים אדומים. בכד ב' 6 כדורים כחולים ו-4 כדורים אדומים. בוחרים באקראי כד, מוציאים ממנו כדור ומבלי להחזירו מוציאים כדור נוסף.
 - א. מה ההסתברות ששני הכדורים שיוצאו יהיו בצבעים שונים?
 - ב. אם הכדורים שיוצאו הם בצבעים שונים, מה ההסתברות שהכדור השני שיוצא יהיה בצבע אדום?

4. חברת סלולר מסווגת את לקוחותיה לפי 3 קבוצות גיל: נוער, בוגרים ופנסיונרים. נתון כי :
 - 10% מהלקוחות בני נוער, 70% מהלקוחות בוגרים והיתר פנסיונרים. מתוך בני הנוער 90% מחזיקים בסמארט-פון, מתוך האוכלוסייה הבוגרת ל 70% יש סמארט-פון ומתוך אוכלוסיית הפנסיונרים 30% מחזיקים בסמארט-פון.
 - א. איזה אחוז מלקוחות החברה הם בני נוער עם סמארט-פון?
 - ב. נבחר לקוח אקראי ונתון שיש לו סמארט-פון. מה ההסתברות שהוא פנסיונר?
 - ג. אם ללקוח אין סמארט-פון, מה ההסתברות שהוא לא בן נוער?

5. כדי להתקבל למקום עבודה יש לעבור שלושה מבחנים. המבחנים הם בשלבים, כלומר אם נכשלתם במבחן מסוים אינכם ניגשים למבחן הבא אחריו.

70% מהמועמדים עוברים את המבחן הראשון.

מתוכם 50% עוברים את המבחן השני.

מבין אלה שעוברים את המבחן השני 40% עוברים את המבחן השלישי.

א. מה ההסתברות להתקבל לעבודה?

ב. מועמד לא התקבל לעבודה. מה ההסתברות שהוא נכשל במבחן הראשון?

ג. מועמד לא התקבל לעבודה. מה ההסתברות שהוא עבר את המבחן השני?

6. משרד הבריאות פרסם את הנתונים הבאים:

מתוך אוכלוסיית הילדים והנוער 80% חולים בשפעת בזמן החורף.

מתוך אוכלוסיית המבוגרים (עד גיל 65) 60% חולים בשפעת בזמן החורף.

30% מהתושבים הם ילדים ונוער.

50% הם מבוגרים.

היתר קשישים.

כמו כן נתון ש-68% מהאוכלוסייה תחלה בשפעת בחורף.

א. מה אחוז החולים בשפעת בקרב האוכלוסייה הקשישה?

ב. נבחר אדם שלא חלה בשפעת, מה ההסתברות שהוא לא קשיש?

7. רדאר שנמצא על החוף צריך לקלוט אנייה הנמצאת ב-1 מ-4 האזורים: A B C D.

אם האנייה נמצאת באזור A הרדאר מזהה אותה בסיכוי 0.8, סיכוי זה פוחת ב-0.1 ככל שהאנייה מתקדמת באזור.

כמו כן נתון שבהסתברות חצי האנייה נמצאת באזור D, בהסתברות 0.3 באזור C, באזור B היא

נמצאת בסיכוי 0.2, אחרת היא נמצאת באזור A.

א. מה הסיכוי ש האנייה תתגלה ע"י הרדאר?

ב. אם האנייה התגלתה ע"י הרדאר, מה ההסתברות שהיא נמצאת באזור C?

ג. אם האנייה התגלתה ע"י הרדאר, מה הסיכוי שהיא לא נמצאת באזור B?

8. סימפטום X מופיע בהסתברות של 0.4 במחלה A, בהסתברות של 0.6 במחלה B ובהסתברות של 0.5 במחלה C.

סימפטום X מופיע אך ורק במחלות הללו, אדם לא יכול לחלות ביותר ממחלה אחת מבין המחלות הללו.

לקליניקה מגיעים אנשים כדלקמן:

8% חולים במחלה A, 10% במחלה B, 2% במחלה C והיתר בריאים. כמו כן נתון שבמחלה A, סימפטום X מתגלה בסיכוי של 80%. במחלות B, C הסימפטום מתגלה בסיכוי של 90% בכל מחלה.

א. מה ההסתברות שאדם הגיע לקליניקה וגילו אצלו את סימפטום X?

ב. אם התגלה אצל אדם סימפטום X, מה ההסתברות שהוא חולה במחלה A?

ג. אם לאדם יש את סימפטום X, מה ההסתברות שהוא חולה במחלה A?

ד. אם לא גילו אצל אדם את סימפטום X, מה ההסתברות שהוא בריא?

9. סטודנט ניגש למבחן אמריקאי. הסיכוי שהוא יודע לשאלה מסוימת את התשובה הוא p , אם הוא

לא יודע את התשובה הוא מנחש. בכל מקרה הוא עונה על השאלה.

נתון שלשאלה יש k תשובות אפשריות.

אם הסטודנט ענה נכון על השאלה, מה הסיכוי שהוא ידע אותה?

פתרונות:**שאלה 1**א. $\frac{2}{7}$ ב. $\frac{23}{49}$ **שאלה 2**

א. 6%

ב. 58%

ג. 0.241

ד. 0.2

שאלה 3

א. 0.544

ב. 0.5

שאלה 4

א. 9%

ב. 0.09375

ג. 0.9722

שאלה 8

א. 0.0886

ב. 0.2889

ג. 0.3137

ד. 0.8778

שאלה 9

$$\frac{kp}{1+(k-1)p}$$

פרק 9 - תלות ואי תלות בין מאורעות

רקע:

אם מתקיים ש: $P(B|A) = p(B)$ נגיד שמאורע B בלתי תלוי ב-A.

הדבר גורר גם ההפך: $P(A|B) = p(A)$ כלומר A אינו תלוי גם ב-B.

כשהמאורעות בלתי תלויים מתקיים ש: $P(A \cap B) = P(A) \cdot P(B)$.

הוכחה לכך:

$$P(A|B) = P(A) = \frac{P(A \cap B)}{P(B)} \Rightarrow P(A \cap B) = P(A) \cdot P(B)$$

נשתמש בנוסחאות של מאורעות בלתי תלויים רק אם נאמר במפורש שהמאורעות בלתי תלויים בתרגיל או שמההקשר אפשר להבין ללא צל של ספק שהמאורעות בלתי תלויים.

למשל,

חוקר מבצע שני ניסויים בלתי תלויים הסיכוי להצליח בניסוי הראשון הנו 0.7 והסיכוי להצליח בניסוי השני הוא 0.4.

א. מה הסיכוי להצליח בשני הניסויים יחדו?

כיוון שהמאורעות הללו בלתי תלויים:

$$p(A \cap B) = P(A) \cdot P(B) = 0.7 \cdot 0.4 = 0.28$$

ב. מה הסיכוי להיכשל בשני הניסויים?

$$p(\bar{A} \cap \bar{B}) = P(\bar{A}) \cdot P(\bar{B}) = (1-0.7)(1-0.4) = 0.18 \quad \text{באופן דומה:}$$

הרחבה: אי תלות בין n מאורעות

n מאורעות A_1, \dots, A_n הם בלתי תלויים אם ורק אם:

$$P\left(\bigcap_{i=1}^n A_i\right) = \prod_{i=1}^n P(A_i)$$

תרגילים:

1. נתון:

$$p(A) = 0.2$$

$$P(B) = 0.5$$

$$P(A \cup B) = 0.6$$

האם המאורעות הללו בלתי תלויים?

2. תלמיד ניגש לשני מבחנים שהצלחתם לא תלויה זו בזו. הסיכוי שלו להצליח במבחן הראשון

הוא 0.7 והשני 0.4 .

א. מה הסיכוי להצליח בשני המבחנים יחדו?

ב. מה הסיכוי שניכשל בשני המבחנים ?

3. במדינה מסוימת 8% אבטלה, נבחרו באקראי שני אנשים מהמדינה.

א. מה ההסתברות ששניהם מובטלים?

ב. מה ההסתברות שלפחות אחד מהם מובטל?

4. מוצר צריך לעבור בהצלחה ארבע בדיקות בלתי תלויות לפני שיוקו, אחרת הוא נפסל ולא

יוצא לשוק. הסיכוי לעבור בהצלחה כל אחת מהבדיקות הוא 0.8. בכל מקרה מבוצעות כל 4

הבדיקות.

א. מה הסיכוי שהמוצר יפסל?

ב. מה ההסתברות שהמוצר יעבור בהצלחה לפחות בדיקה אחת?

5. מדינה מסוימת 8% אבטלה, נבחרו באקראי חמישה אנשים מהמדינה.

א. מה ההסתברות שכולם מובטלים במדגם?

ב. מה ההסתברות שלפחות אחד מהם מובטל?

6. עבור שני מאורעות A ו-B המוגדרים על אותו מרחב מדגם נתון ש: $P(A \cup B) = 0.9$, $P(A|B) = 0.6$, $P(A \cap \bar{B}) = 0.3$. האם A ו-B מאורעות בלתי תלויים?

7. הוכח אם

$$P(A/B) = P(B/A)$$

אז:

$$P(A) = P(B)$$

8. קבע אילו מהטענות הבאות נכונות. נמק!

- א. אם $p(A \cup B) = p(A) + p(B)$ אזי המאורעות בלתי תלויים.
 ב. מאורע A כלול במאורע B. $P(A) > 0$, $0 < p(B) < 1$, לכן $p(A/B) < p(A)$.
 ג. A ו-B מאורעות זרים שסיכוייהם חיוביים לכן הם מאורעות תלויים.
 ד. A ו-B מאורעות תלויים שסיכוייהם חיוביים לכן A ו-B מאורעות זרים.
 ה. $P(\bar{A} \cap \bar{B}) = 1 - P(A) - P(B)$ לכן A ו-B מאורעות זרים.

פתרונות :שאלה 1

כן

שאלה 2

א. 0.28

ב. 0.18

שאלה 3

א. 0.0064

ב. 0.1536

שאלה 4

א. 0.5904

ב. 0.9984

שאלה 8

א. לא נכון

ב. לא נכון

ג. נכון

ד. לא נכון

ה. נכון

פרק 10 - שאלות מסכמות בהסתברות

1. נלקחו משפחות שיש להם שתי מכוניות. ל- 30% מהמשפחות הללו המכונית הישנה יותר היא מתוצרת אירופה ואצל 60% מהמשפחות הללו המכונית החדשה יותר מתוצרת אירופה. כמו כן 15% מהמשפחות הללו שתי המכוניות הן מתוצרת אירופאית.
- א. מה ההסתברות שמשפחה אקראית בת שתי מכוניות תהיה ללא מכוניות מתוצרת אירופה?
 ב. מה ההסתברות שלפחות מכונית אחת תהיה אירופאית?
 ג. ידוע שלמשפחה יש מכונית אירופאית. מה ההסתברות שרק המכונית החדשה שלה היא מתוצרת אירופאית?
 ד. אם המכונית הישנה של המשפחה היא אירופאית, מה ההסתברות שגם החדשה אירופאית?
2. במדינת "שומקום" 50% מהחלב במרכולים מיוצר במחלבה א' 40% במחלבה ב' והיתר במחלבה ג'. 3% מתוצרת מחלבה א' מגיעה חמוצה למרכולים ואילו במחלבה ב' 10%. כמו כן ידוע שבמדינת "שומקום" בסך הכול 7.5% מהחלב חמוץ.
- א. איזה אחוז מהחלב שמגיע למרכול ממחלבה ג' חמוץ?
 ב. אם נרכש חלב חמוץ במרכול. מה הסיכוי שהוא יוצר במחלבה ג?
 ג. ברכישת חלב נימצא שהוא אינו חמוץ. מה הסיכוי שהוא יוצר במחלבה א?
 ד. האם המאורעות: "חלב חמוץ" ו-"יוצר במחלבה א" בלתי תלויים?
3. רוני ורונה יצאו לבלות במרכז בילויים עם מספר אפשרויות בילוי:
 בהסתברות של 0.3 הם ייצאו לבאולינג
 בהסתברות של 0.5 הם ייצאו לבית קפה
 בהסתברות של 0.7 הם יצאו לפחות לאחד מהם, באולינג/קפה.
- א. מה ההסתברות שהם יצאו רק לבאולינג?
 ב. האם המאורעות "לצאת לבאולינג" לצאת לבית קפה" זרים?
 ג. האם המאורעות "לצאת לבאולינג" לצאת לבית קפה" תלויים?
 ד. מה ההסתברות שיום אחד הם יצאו רק לבאולינג וביום למחרת לא יצאו לאף אחד מהמקומות?

4. 70% מהנבחנים בסטטיסטיקה עוברים את מועד א'. כל מי שלא עובר את מועד א' ניגש לעשות מועד ב', מתוכם 80% עוברים אותו. מבין אלה שנכשלים בשני המועדים 50% נרשמים לקורס מחדש, והיתר פורשים מהתואר.
- א. מה הסיכוי שסטודנט אקראי עבר את הקורס?
 ב. אם סטודנט אקראי עבר הקורס, מה הסיכוי שעבר במועד ב'?
 ג. מה אחוז הסטודנטים שפורשים מהתואר?
 ד. נבחרו 2 סטודנטים אקראיים רונית וינאי, מה ההסתברות שרונית עברה במועד א' ושינאי עבר במועד ב'?
5. באוכלוסיה מסוימת 40% הם גברים והיתר הן נשים. מבין הגברים 10% מובטלים. בסך הכול 13% מהאוכלוסייה מובטלת.
- א. מה אחוז האבטלה בקרב הנשים?
 ב. נבחר אדם מובטל, מה ההסתברות שזו אישה?
 ג. נגדיר את המאורעות הבאים:
 A - נבחר אדם מובטל
 B - נבחר גבר
 האם המאורעות הללו זרים? והאם הם בלתי תלויים?
6. בתיבה 10 מטבעות, מתוכם 7 מטבעות רגילים (ראש, זנב) ו-3 מטבעות שבשני צדדיהם טבוע ראש. אדם בוחר באקראי מטבע ומטיל אותו פעמיים. נסמן ב-A את ההטלה הראשונה ראש, ב-B את ההטלה השנייה ראש.
- א. חשבו את הסיכויים למאורעות A ו-B.
 ב. האם המאורע A ו-B בלתי תלויים?
 ג. ידוע שבהטלה הראשונה התקבל ראש, מה ההסתברות שהמטבע שהוטל הוא מטבע הוגן?

7. ערן מעוניין למכור את רכבו, הוא מפרסם מודעה באינטרנט ומודעה בעיתון. מבין אלה שמעוניינים לרכוש רכב משומש 30% יראו את המודעה באינטרנט, 50% יראו את המודעה בעיתון ו-72% יראו את המודעה בלפחות אחת מהמדיות.
- א. מה אחוז האנשים מאלה שמעוניינים לרכוש רכב משומש יראו את 2 המודעות?
 ב. אם אדם ראה את המודעה באינטרנט, מה ההסתברות שהוא לא ראה את המודעה בעיתון?
 ג. האם המאורעות: "לראות את המודעה באינטרנט" ו"לראות את המודעה בעיתון" בלתי תלויים?
 ד. אדם שראה את המודעה באינטרנט בלבד יתקשר לערן בהסתברות של 0.7, אם הוא ראה את המודעה בעיתון בלבד הוא יתקשר לערן בהסתברות של 0.6. ואם הוא ראה את שתי המודעות הוא יתקשר לערן בהסתברות של 0.9.
1. מה ההסתברות שאדם המעוניין לרכוש רכב משומש יתקשר לערן?
 2. אדם המעוניין לרכוש רכב משומש התקשר לערן. מה ההסתברות שהוא ראה את שתי המודעות?

פתרונות:**שאלה 1**

א. 0.25

ב. 0.75

ג. 0.6

ד. 0.5

שאלה 2

א. 0.2

ב. 0.267

ג. 0.524

ד. המאורעות תלויים.

שאלה 3

א. 0.2

ב. המאורעות אינם זרים.

ג. המאורעות הללו תלויים.

ד. 0.06

שאלה 4

א. 0.94

ב. 0.255

ג. 0.03

ד. 0.168

שאלה 5

א. 15%

ב. 0.692

ג. לא זרים ותלויים.

שאלה 6

א. 0.65

ב. A ו-B תלויים.

ג. 0.5384

שאלה 7

א. 8%

ב. 0.733

ג. תלויים.

ד. 1. 0.478

2. 0.15

פרק 11 - המשתנה המקרי הבדיד - פונקציית ההסתברות

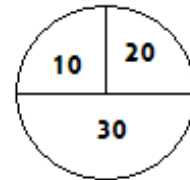
רקע:

משתנה מקרי בדיד : הנו משתנה היכול לקבל כמה ערכים בודדים בהסתברויות שונות. מתארים את המשתנה המקרי על ידי פונקציית ההסתברות.

פונקציית ההסתברות : פונקציה המתאימה לכל ערך אפשרי של המשתנה את ההסתברות שלה.

סכום ההסתברויות על פונקציית ההסתברות חייב להיות 1.

למשל, בקזינו יש רולטה כמוראה בשרטוט :



אדם מסובב את הרולטה וזוכה בסכום הרשום על הרולטה בש"ח. בנו את פונקציית ההסתברות של סכום הזכייה במשחק בודד (פתרון בהקלטה).

תרגילים:

1. ידוע שביישוב מסוים התפלגות מספר המכוניות למשפחה הוא:
 - 50 משפחות אינן מחזיקות במכונית.
 - 70 משפחות עם מכונית אחת.
 - 60 משפחות עם 2 מכוניות.
 - 20 משפחות עם 3 מכוניות.
 בוחרים באקראי משפחה מהיישוב, נגדיר את X להיות מספר המכוניות של המשפחה שנבחרה.
 - בנו את פונקציית ההסתברות של X .
2. מהאותיות C, B, A , יוצרים קוד דו תווי.
 - א. כמה קודים ניתן ליצור?
 - ב. רשמו את כל הקודים האפשריים
 - ג. נגדיר את X להיות מספר הפעמים שהאות B מופיעה בקוד, בנו את פונקציית ההסתברות של X .
3. תלמיד ניגש בסמסטר לשני מבחנים מבחן בכלכלה ומבחן בסטטיסטיקה.
 - כמו כן נתון שהסיכוי לעבור את המבחן בכלכלה הנו 0.8 והסיכוי לעבור את המבחן בסטטיסטיקה הנו 0.9. הסיכוי לעבור את שני המבחנים הנו 0.75. יהי X מספר המבחנים שהסטודנט עבר. בנה את פונקציית ההסתברות של X .
4. הסיכוי לזכות במשחק מסוים הינו 0.3. אדם משחק את המשחק עד אשר הוא מנצח אך בכל מקרה הוא לא משחק את המשחק יותר מ- 4 פעמים. נגדיר את X להיות מספר הפעמים שהוא שיחק את המשחק. בנה את פונקציית ההסתברות של X .
5. חברה לניהול פרויקטים מנהלת 3 פרויקטים במקביל. הסיכוי שפרויקט א' יצליח הינו 0.7. הסיכוי שפרויקט ב' יצליח הינו 0.8. הסיכוי שפרויקט ג' יצליח הינו 0.9. נתון שהצלחת כל פרויקט בלתי תלויה זו בזו. נגדיר את X להיות מספר הפרויקטים שיצליחו. בנה את פונקציית ההסתברות של X .

6. להלן פונקציית הסתברות של משתנה מקרי כלשהו:

$$P(X = k) = \frac{k}{A}$$

$$k = 1, 2, \dots, 4$$

מצא את ערכו של A .

7. בגן ילדים 8 ילדים מתוכם 5 בנים ו-3 בנות. בוחרים באקראי 3 ילדים להשתתף בהצגה. נגדיר את X כמספר הבנים שנבחרו להצגה. בנו את פונקציית ההסתברות של X .

פתרונות**שאלה 3**

2	1	0	x
0.75	0.20	0.05	P(x)

שאלה 4

4	3	2	1	x
0.343	0.147	0.21	0.3	P(x)

שאלה 5

3	2	1	0	X
0.504	0.398	0.092	0.006	P(x)

שאלה 6

10

פרק 12 - המשתנה המקרי הבדיד - תוחלת, שונות וסטיית תקן

רקע:

$$E(X) = \sum_i x_i P(x_i) = \mu$$

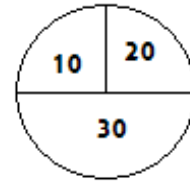
$$V(X) = \sum_i (x_i - \mu)^2 P(x_i) = \sum_i x_i^2 P(x_i) - \mu^2 = \sigma^2$$

תוחלת – ממוצע של פונקציית ההסתברות, אם נבצע את התהליך אינסוף פעמים כמה בממוצע נקבל. התוחלת היא צפי של המשתנה המקרי.

שונות – תוחלת ריבועי הסטיות מהתוחלת – נותן אינדיקציה על הפיזור והסיכון של פונקציית ההסתברות.

סטיית תקן – שורש של השונות. – הפיזור הממוצע הצפוי סביב התוחלת.

למשל, בקזינו רולטה כמוראה בשרטוט:



אדם מסובב את הרולטה וזוכה בסכום הרשום על הרולטה בש"ח.

30	20	10	x
0.5	0.25	0.25	P(x)

$$E(X) = 10 \cdot 0.25 + 20 \cdot 0.25 + 30 \cdot 0.5 = 22.5 = \mu$$

$$V(X) = \sum_i (x_i - \mu)^2 P(x_i) = (10 - 22.5)^2 \cdot 0.25 + (20 - 22.5)^2 \cdot 0.25 + (30 - 22.5)^2 \cdot 0.5$$

$$= 68.75 = \sigma^2$$

כדי לחשב את סטיית התקן נוציא שורש לשונות:

$$\sigma_x = \sqrt{V(X)} = \sqrt{68.75} = 8.29$$

תרגילים:

1. אדם משחק במשחק מזל. נגדיר את X להיות סכום הזכייה. להלן פונקציית ההסתברות של X :

X	-30	0	20	40
$p(X)$	0.4	0.1	0.3	0.2

מהי התוחלת, השונות וסטית התקן של X ?

2. בישוב מסוים שני סניפי בנק, בנק פועלים ובנק לאומי. מתוך האוכלוסייה הבוגרת בישוב ל-50% חשבון בנק בסניף הפועלים של הישוב. ל-40% חשבון בנק בסניף הלאומי של הישוב. ל-20% מהתושבים הבוגרים אין חשבון בנק בישוב. יהי X מס' סניפי הבנק שלבוגר בישוב יש חשבון. חשב את $E(X)$

3. ידוע של-20% מהמשפחות יש חיבור לווייני בביתם. בסקר אדם מחפש לראיין משפחה המחוברת ללוויין. הוא מטלפן באקראי למשפחה וממשיך עד אשר הוא מגיע למשפחה המחוברת ללוויין. בכל מקרה הסוקר לא יתקשר ליותר מ-5 משפחות.

נגדיר את X להיות מספר המשפחות שאליהן האדם יתקשר.

א. בנו את פונקציית ההסתברות של X .

ב. חשבו את התוחלת וסטית תקן של X .

4. לאדם צרור מפתחות. בצרור 5 מפתחות אשר רק אחד מתאים לדלת של ביתו. האדם מנסה את המפתחות באופן מקרי. לאחר שניסה מפתח מסוים הוא מוציא אותו מהצרור כדי לא להשתמש בו שוב. נסמן ב- X את מספר הניסיונות עד שהדלת תפתח.

א. בנה את פונקציית ההסתברות של X .

ב. חשב את התוחלת והשונות של X .

5. נתונה פונקציית ההסתברות של המשתנה המקרי X :

8	6	4	2	x
0.2		0.3		P(x)

כמו כן נתון ש: $E(X) = 4.2$

א. מצא את ההסתברויות החסרות בטבלה.

ב. חשב את $V(X)$.

6. משתנה מקרי בדיד מקבל את הערכים 0-5 ו 5. נתון שהתוחלת של המשתנה 0 ושהשונות היא 10. מצא את פונקציית ההסתברות.

פתרונות:**שאלה 1**

תוחלת: 2 שונות: 796

שאלה 3

ב. תוחלת: 3.36 סטיית תקן: 1.603

שאלה 4

א.

5	4	3	2	1	x
0.2	0.2	0.2	0.2	0.2	P(x)

ב. תוחלת: 3

שונות 2

שאלה 5

א.

8	6	4	2	x
0.2	0.1	0.3	0.4	P(x)

ב. 5.16

שאלה 6

5	0	-5	x
0.2	0.6	0.2	P(x)

פרק 13 - המשתנה המקרי הבדיד - טרנספורמציה לינארית

רקע

מצב שבו מבצעים הכפלה של קבועה ו או הוספה של קבוע על המשתנה המקורי. (כולל גם חלוקה של קבוע והחסרה של קבוע)

$$Y = aX + b \quad \text{אם}$$

אזי:

$$E(Y) = aE(X) + b$$

$$V(Y) = a^2 \cdot V(X)$$

$$\sigma_Y = |a| \sigma_x$$

שלבי העבודה:

1. נוהה שמדובר בטרנספורמציה לינארית (שינוי קבוע לכל התצפיות).
2. נרשום את כלל הטרנספורמציה לפי נתוני השאלה.
3. נפשט את הכלל ונוהה את ערכי a ו b.
4. נציב בנוסחאות שלעיל בהתאם למדדים שנשאלים.

דוגמה - הרולטה:

בהמשך לנתוני שאלת הרולטה נתון שעלות השתתפות במשחק 15 ₪ מהי התוחלת והשונוות של הרווח במשחק ?

פתרון (בהקלטה)

חישבנו קודם ש :

$$E(X) = 22.5 = \mu$$

$$V(X) = 68.75 = \sigma^2$$

תרגילים:

1. סטודנט נישג ל- 5 קורסים הסמסטר. נניח שכל קורס שסטודנט מסיים מזכה אותו ב-4 נקודות אקדמאיות. חשב את התוחלת והשונוות של סך הנקודות שיצבור הסטודנט כאשר נתון שתוחלת מספר הקורסים שסיים היא 3.5 עם שונות 2.
2. תוחלת סכום הזכייה במשחק מזל הינו 10 עם שונות 3 הוחלט להכפיל את סכום הזכייה במשחק. עלות השתתפות במשחק הינה 12. מה התוחלת ומהי השונות של הרווח במשחק?
3. תוחלת של משתנה מקרי הינה 10 וסטית התקן 5. הוחלט להוסיף 2 למשתנה ולאחר מכן לעלות אותו ב-10%. מהי התוחלת ומהי סטיית התקן לאחר השינוי?
4. X הינו משתנה מקרי. כמו כן נתון ש- $E(X) = 4$ ו- $V(X) = 3$.
 Y הינו משתנה מקרי חדש עבורו $Y = 7 - X$.
 חשב את: $E(Y)$ ו- $V(Y)$.
5. אדם החליט לבטח את רכבו, שווי רכבו 100,000 ₪.
 להלן התביעות האפשריות והסתברותן:
 בהסתברות של 1/1000 תהיה תביעה טוטאלוסט (כל שווי הרכב).
 בהסתברות של 0.02 תהיה תביעה בשווי מחצית משווי הרכב.
 בהסתברות של 5% תהיה תביעה בשווי רבע משווי הרכב.
 אחרת אין תביעה בכלל.
 החברה מאפשרת תביעה אחת בשנה.
 נסמן ב- X את גובה התביעה השנתית באלפי ₪
 א. בנו את פונקצית ההסתברות של X .
 ב. חשבו את התוחלת והשונוות של גובה התביעה.
 ג. פרמיית הביטוח היא 4,000 ₪, מהי התוחלת ומהי השונות של רווח חברת הביטוח לביטוח הרכב הנ"ל?

6. יהי X מספר התשובות הנכונות במבחן בו 10 שאלות. פונקציית ההסתברות של X נתונה בטבלה הבאה:

10	9	8	7	6	5	X
		0.3	0.2	0.2	0.1	$P(x)$

- 7.35. כמו כן נתון שצפי מספר התשובות הנכונות בבחינה הוא 7.35.
- א. השלימו את פונקציית ההסתברות.
- ב. חשבו את השונות מספר התשובות הנכונות בבחינה.
- ג. הציון בבחינה מחושב באופן הבא: כל שאלה נכונה מזכה ב-10 נקודות. לכל שאלה שגוייה, מופחתת נקודה. מהי התוחלת ומה השונות של הציון בבחינה?

7. להלן פונקציית הסתברות של משתנה מקרי כלשהו:

$$P(X = k) = \frac{k}{A}$$

$$k = 1, 2, \dots, 4$$

- א. מצא את ערכו של A .
- ב. חשב את התוחלת והשונות של המשתנה הנחקר.
- ג. חשב את $E(X^3)$.
- ד. חשב את התוחלת והשונות של המשתנה הבא: $4 - \frac{X}{2}$

פתרונות :**שאלה 1:**

תוחלת: 14 שונות: 32

שאלה 2:

תוחלת: 8 שונות: 12

שאלה 3:

תוחלת: 13.2

סטיית תקן : 5.5

שאלה 4:

תוחלת: 3

שונות: 3

שאלה 6:ב. $V(X) = 1.8275$ **שאלה 7:**א. $10 = A$

$$E(X) = 3 \quad \text{ב.}$$

$$V(X) = 1$$

$$E(X^3) = 35.4 \quad \text{ג.}$$

$$V(X^3) = 616.84$$

$$E(y) = -2.5 \quad \text{ד.}$$

$$V(y) = 0.25$$

פרק 14 - תוחלת ושונות של סכום משתנים מקריים

רקע:

אם X_1, X_2, \dots, X_n משתנים מקריים אזי:

$$E(T) = E(X_1 + X_2 + \dots + X_n) = E(X_1) + E(X_2) + \dots + E(X_n)$$

אם X_1, X_2, \dots, X_n משתנים מקריים בלתי תלויים בזוגות, אזי:

$$V(T) = V(X_1 + X_2 + \dots + X_n) = V(X_1) + V(X_2) + \dots + V(X_n)$$

למשל,

אדם משחק בשני משחקי מזל בלתי תלויים. תוחלת סכום הזכייה של המשחק הראשון היא 7 עם סטיית תקן 3. תוחלת סכום הזכייה של המשחק השני היא 2- עם סטיית תקן 4. מה התוחלת ומהי השונות של סכום הזכייה הכולל של שני המשחקים יחד?

תרגילים:

1. הרווח ממנייה א' הוא עם תוחלת של 5 ושונויות 10. הרווח ממנייה ב' הוא עם תוחלת של 4 ושונויות 5. ידוע שההשקעות של שתי המניות בלתי תלויות זו בזו. מה התוחלת והשונויות של הרווח הכולל מהשקעה בשתי המניות יחד?

2. X ו- Y הם משתנים בלתי תלויים, סטיית התקן של X היא 3. סטיית התקן של Y היא 4. מהי סטיית התקן של $X+Y$?

3. אדם משחק בשני משחקי מזל בלתי תלויים זה בזה:

$X =$ סכום הזכיה במשחק הראשון.

$Y =$ סכום הזכיה במשחק השני.

נתון:

$$E(x) = 10 \quad \sigma(X) = 3$$

$$E(y) = 12 \quad \sigma(Y) = 4$$

מהי התוחלת ומהי סטיית התקן של סכום הזכיה בשני המשחקים?

4. ברולטה הסיכוי לזכות ב-30 ש"ח הוא חצי וב-10 ש"ח רבע כך גם ב-20 ש"ח. מה היא התוחלת והשונויות של סכום הזכיה הכולל לאדם המשחק ברולטה 4 פעמים.

5. נתון משתנה מקרי בעל פונקציית ההסתברות הבאה:

$$P(X = K) = \frac{A}{K-1} \quad K = 2, 3, 4, 5$$

0 אחרת

א. מצא את ערכו של A .

ב. חשב את התוחלת והשונויות של X .

ג. נלקחו n משתנים מקריים בלתי תלויים מההתפלגות הנ"ל. בטאו באמצעות n את תוחלת והשונויות של סכום המשתנים.

פתרונות:**שאלה 1**

תוחלת: 9

שונות: 15

שאלה 3

תוחלת: 22

סטיית תקן: 5

שאלה 4

תוחלת: 90

שונות: 275

שאלה 5

$$A = \frac{12}{25} = 0.48 \quad \text{א.}$$

ב. תוחלת 2.92

שונות 1.1136

ג. תוחלת 2.92

שונות 1.1136

פרק 15 - התפלגויות בדידות מיוחדות - התפלגות בינומית

רקע:

נגדיר את המושג ניסוי ברנולי:
 ניסוי ברנולי הנו ניסוי שיש לו שתי תוצאות אפשריות: "הצלחה" ו"כישלון" כמו: מוצר פגום או תקין אדם עובד או מובטל עץ או פלי בהטלת מטבע וכדומה.

בהתפלגות בינומית חוזרים על אותו ניסוי ברנולי n פעמים באופן בלתי תלוי זה בזה. מגדירים את X להיות מספר ההצלחות שהתקבלו בסך הכול. נסמן ב p את הסיכוי להצלחה בניסוי בודד וב q את הסיכוי לכישלון בניסוי בודד.

ואז נגיד ש: $X \sim B(n, p)$.

פונקציית ההסתברות של X :

$$k = 0, 1, 2, \dots, n; P(X = k) = \binom{n}{k} p^k (1-p)^{n-k} \quad \text{לכל}$$

$$\binom{n}{k} = \frac{n!}{k!(n-k)!} \quad ; \quad n! = n \cdot (n-1) \cdot (n-2) \cdot \dots \cdot 1 \quad ; \quad 0! = 1 \quad \text{כאשר}$$

לגודל: $\binom{n}{k}$ ניתן לחשב באמצעות המחשבון.

$$E(X) = np \quad \text{תוחלת}$$

$$V(X) = npq \quad \text{שונות}$$

שימו לב כדי לזהות שמדובר בהתפלגות בינומית צריכים להתקיים כל התנאים הבאים:

(1) חוזרים על אותו ניסוי ברנולי באופן בלתי תלוי זה בזה.

(2) חוזרים על הניסוי n פעמים.

(3) X – מוגדר כמספר ההצלחות המתקבלות בסך הכול.

דוגמה : (פתרון בהקלטה)

במדינה מסוימת ל-80% מהתושבים יש רישיון נהיגה. נבחרו 10 תושבים אקראיים מהמדינה.

א. מהי ההסתברות שבדיוק ל-9 מהם יש רישיון נהיגה?

ב. מה ההסתברות שלפחות ל-9 מהם יש רישיון נהיגה?

ג. מהי התוחלת ומהי סטיית התקן של מספר התושבים שנדגמו ושיש להם רישיון נהיגה?

תרגילים:

1. במדינה 10% מהאוכלוסייה מובטלת. נבחרו 5 אנשים באקראי מאותה אוכלוסייה. נגדיר את X להיות מספר המובטלים שהתקבלו במדגם.
- מהי ההתפלגות של X ?
 - מה ההסתברות שיהיה בדיוק מובטל אחד?
 - מה ההסתברות שכולם יעבדו במדגם?
 - מה ההסתברות ששלושה יעבדו במדגם?
 - מה ההסתברות שלפחות אחד יהיה מובטל?
 - מה תוחלת ומהי השונות של מספר המובטלים במדגם?

2. על פי נתוני משרד התקשורת ל-70% מהאוכלוסייה יש סמארט-פון. נבחרו 10 אנשים באקראי. נגדיר את X כמספר האנשים שנדגמו עם סמארט-פון.

- מהי ההתפלגות של X ? הסבירו.
- מה ההסתברות שבמדגם ל-8 אנשים יש סמארט-פון?
- מה ההסתברות שבמדגם לפחות ל-9 יהיו סמארט-פון?
- מה התוחלת ומה סטיית התקן של מספר האנשים שנדגמו ולהם סמארט-פון?

3. בבית הימורים יש שורה של 6 מכונות מזל מאותו סוג. משחק במכונת מזל כזו עולה 5 ₪. ההסתברות לזכות ב-20 ₪, בכל אחת מהמכונות היא 0.1 וההסתברות להפסיד את ההשקעה היא 0.9 בכל מכונה. מהמר נכנס לבית הימורים ומכניס 5 ₪ לכל אחת מ-6 המכונות.
- מה ההסתברות שיפסיד בכל המכונות?
 - מה ההסתברות שיזכה בדיוק בשתי מכונות?
 - מה ההסתברות שיזכה ביותר כסף מה-30 ₪ שהשקיע?
 - מהן התוחלת וסטיית התקן של הרווח נטו של המהמר (הזכיות בניכוי ההשקעה)?

4. במדינה מסוימת התפלגות ההשכלה בקרב האוכלוסייה מעל גיל 30 היא כזו:

השכלה	נמוכה	תיכונית	תואר I	תואר II ומעלה
פרופורציה	0.1	0.6	0.2	0.1

- נבחרו 20 אנשים אקראיים מעל גיל 30 מהמדינה הנ"ל.
- מה ההסתברות ש-5 מהם אקדמאים?
 - מה התוחלת של מס' בעלי ההשכלה הנמוכה?

5. במכללה מסוימת 20% מהסטודנטים גרים בת"א. מבין הסטודנטים שגרים בת"א 30% מגיעים ברכבם ומבין הסטודנטים שלא גרים בת"א 50% מגיעים ברכבם למכללה.
- א. השומר בשער המכללה בודק לכל סטודנט את תיקו בהיכנסו למכללה. מה ההסתברות שבקרב 5 סטודנטים שנבדקו ע"י השומר רק 1 מתוכם הגיע למכללה ברכבו?
- ב. בהמשך לסעיף הקודם מה ההסתברות שרוב הסטודנטים בקרב ה-5 הגיעו למכללה ברכבם?
6. במבחן אמריקאי 20 שאלות. סטודנט ניגש למבחן והסיכוי שהוא יודע שאלה היא 0.8. אם הוא לא יודע הוא מנחש את התשובה. לכל שאלה 4 תשובות אפשריות שרק אחת מהן נכונה.
- א. מה הסיכוי לענות על שאלה מסוימת נכון?
- ב. מה הסיכוי שיענה נכונה על בדיוק 16 שאלות?
- ג. על כל שאלה שענה נכון התלמיד מקבל 5 נקודות, על כל שאלה ששגה מופחתת נקודה, מה התוחלת ומהי השונות של ציון התלמיד?
7. 5% מקו היצור פגום. המוצרים נארזים בתוך קופסת קרטון. בכל קופסא 10 מוצרים שונים. הקופסאות נארזות בתוך מכולה. בכל מכולה 20 קופסאות.
- א. מה ההסתברות שבקופסא אקראית לפחות מוצר פגום אחד?
- ב. מה התוחלת ומהי סטיית התקן של מספר הקופסאות במכולה בהן לפחות מוצר פגום אחד?
8. מטילים מטבע הוגן 5 פעמים. נגדיר את X – מספר הפעמים שהתקבל עץ. חשבו את $E(x^2)$.

פתרונות :שאלה 7 :

- א. 0.401
 ב. תוחלת : 8.025
 סטיית תקן : 2.193

שאלה 2 :

- ב. 0.2335
 ג. 0.1493
 ד. תוחלת : 7
 סטיית תקן : 1.449

שאלה 8 :

7.5

שאלה 3 :

- א. 0.5314
 ב. 0.0984
 ג. 0.1143
 ד. תוחלת : -18
 סטיית תקן : 14.697

שאלה 4 :

- א. 0.1789
 ב. 2

שאלה 5 :

- א. 0.1956
 ב. 0.4253

שאלה 6 :

- א. 0.85
 ב. 0.182
 ג. תוחלת : 82 נקודות
 שונות : 91.8 נקודות

פרק 16 - התפלגויות בדידות מיוחדות - התפלגות גיאומטרית

רקע:

חוזרים באופן בלתי תלוי על אותו ניסוי ברנולי.
 X – מוגדר להיות מספר הניסויים שבוצעו עד ההצלחה הראשונה כולל.
 נסמן ב p את הסיכוי להצלחה בניסויי בודד וב- q את הסיכוי לכישלון בניסוי בודד.

$$X \sim G(p)$$

פונקציית ההסתברות:

$$k = 1, 2, \dots, \infty \quad P(X = k) = pq^{k-1}$$

$$E(X) = \frac{1}{p} \quad \text{תוחלת:}$$

$$V(X) = \frac{q}{p^2} \quad \text{שונות:}$$

תכונות חשובות :

אם X מתפלג על פי התפלגות גיאומטרית, אזי X הוא בעל תכונת חוסר זיכרון, דהיינו,
 $P(X = n + k) / X > k = P(X = n)$

$$P(X > k) = q^k$$

דוגמה: (פתרון בהקלטה)

בכד 10 כדורים ש- 3 מהם ירוקים. אדם מוציא באקראי כדור אחר כדור עד שבידו כדור ירוק.
 ההוצאה היא עם החזרת הכדור לכד בכל פעם מחדש.

- א. מהי ההתפלגות של מספר הכדורים שהוצאו?
- ב. מה ההסתברות שהוצאו בדיוק 5 כדורים?
- ג. מה ההסתברות שהוצאו יותר מ 5 כדורים?
- ד. אם הוצאו יותר מ- 3 כדורים. מה הסיכוי שהוצאו בדיוק 5 כדורים?
- ה. מה התוחלת וסטיית התקן של מספר הכדורים שהוצאו?

תרגילים:

1. קו ייצור המוני מייצר מוצרים כך ש 5% מהם פגומים. איש בקרת איכות דוגם באופן מקרי מוצרים מקו הייצור עד אשר בידו מוצר פגום.
חשבו את ההסתברויות הבאות:
 - א. שידגום 3 מוצרים.
 - ב. שידגום 4 מוצרים.
 - ג. שידגום 5 מוצרים.
 - ד. שידגום יותר מ-7 מוצרים.
 - ה. שידגום לא פחות מ-8 מוצרים.

2. צילום שמבוצע במכון הרנטגן "X-RAY" יתקבל תקין בהסתברות של 0.9. אדם נכנס למכון כדי להצטלם. הוא ייצא מהמכון רק כאשר יש בידו תצלום תקין.
 - א. מה ההסתברות שיצטלם בסך הכול 3 פעמים?
 - ב. מה ההסתברות שהצטלם יותר מ-4 פעמים?
 - ג. מה התוחלת ומה השונות של מספר הצילומים שייבצע?
 - ד. כל צילום עולה למכון 50 ₪. אדם משלם על צילום תקין 100 ₪. מה התוחלת ומה השונות של רווח המכון מאדם שהגיע להצטלם?

3. מטילים מטבע עד אשר מתקבלת התוצאה "עץ".
 - א. מה ההסתברות להטיל את המטבע לכל היותר 10 פעמים?
 - ב. מה ההסתברות להטיל את המטבע לכל היותר 5 פעמים אם ידוע שהמטבע הוטל לפחות 3 פעמים?
 - ג. אם ידוע שבשתי ההטלות הראשונות התקבלה התוצאה "פלי" מה ההסתברות שהאדם הטיל את המטבע 7 פעמים?
 - ד. מה תוחלת מספר הפעמים שהתקבלה התוצאה "פלי"?

4. 30% מהמכוניות בארץ הן בצבע לבן. בכל יום נכנסות לחניון 10 מכוניות אקראיות.
 - א. מה ההסתברות שביום מסוים בדיוק מחצית מהמכוניות בחניון יהיו לבנות?
 - ב. מה תוחלת מספר הימים שיעברו מהיום עד שלראשונה מחצית מהמכוניות בחניון יהיו לבנות?

5. אדם משחק במשחק מזל עד אשר הוא מפסיד. הצפי הוא שישחק את המשחק 10 פעמים. מה הסיכוי להפסיד במשחק בודד?

- א. מה ההסתברות שישחק את המשחק בדיוק 6 פעמים?
- ב. מה ההסתברות שישחק את המשחק לכל היותר 12 פעמים?
- ג. ידוע שהאדם שיחק את המשחק יותר מ-6 פעמים, מה ההסתברות שישחק את המשחק בדיוק 10 פעמים?
- ד. מהי סטיית התקן של מספר הפעמים שישחק את המשחק?

6. במאפייה מייצרים עוגת גבינה ועוגת שוקולד שנארזות באריזות אטומות. 40% מהעוגות הן עוגות גבינה והיתר עוגות שוקולד. התוויית על האריזה מודבקת בשלב מאוחר יותר של הייצור. אדם נכנס למפעל ובוחר באקראי עוגה.

- א. מה ההסתברות שייאלץ לבחור 5 עוגות עד שקיבל עוגת שוקולד?
- ב. אם הוא דגם פחות מ-7 עוגות עד שיקבל עוגת שוקולד, מה ההסתברות שבפועל הוא דגם יותר מ-4 עוגות?
- ג. האדם דוגם עוגות עד אשר הוא מוצא עוגת שוקולד ידוע שעוגת גבינה עולה לייצורן 50 שקלים ועוגת שוקולד 30 שקלים. מהי התוחלת ומהי השונות של עלות הייצור הכוללת של העוגות שדגם?
- ד. בהמשך לסעיף הקודם, מהי התוחלת ומהי סטיית התקן של מספר עוגת הגבינה שדגם האדם?

פתרונות :שאלה 2 :

- א. 0.009
 ב. 0.0001
 ג. תוחלת : 1.111
 שונות : 0.1234
 ד. תוחלת : 44.4
 שונות : 308.5

שאלה 3 :

- א. 0.999
 ב. 0.875
 ג. 0.03125
 ד. 1

שאלה 4 :

- א. 0.1029
 ב. 9.72

שאלה 5 :

- א. 0.06
 ב. 0.7176
 ג. 0.0729
 ד. 9.487 משחקים

שאלה 6 :

- א. 0.015
 ב. 0.0215
 ג. תוחלת $\frac{1}{3}$, שונות $\frac{7}{9}$
 ד. תוחלת $\frac{2}{3}$, שונות 1.054

פרק 17 - התפלגויות בדידות מיוחדות - התפלגות אחידה

רקע:

התפלגות זו הנה התפלגות שבה לכל תוצאה יש את אותה הסתברות. הערכים המתקבלים בהתפלגות הם החל מ- a ועד b בקפיצות של אחד.

$$X \sim U(a, b)$$

פונקציית ההסתברות:

$$P(X = K) = \frac{1}{b - a + 1}$$

$$K = a, a+1, \dots, b$$

$$E(X) = \frac{a+b}{2} \quad \text{תוחלת:}$$

$$V(X) = \frac{(b-a+1)^2 - 1}{12} \quad \text{שונות:}$$

דוגמה: (פתרון בהקלטה)

אדם בוחר מספר אקראי בין 1 ל-100 כולל. מהי פונקציית ההסתברות של המספר ומה הצפי שלו?

תרגילים :

1. במשחק הלוטו 45 כדורים ממוספרים מ-1 ועד 45 .
נתבונן במשתנה X המספר של הכדור הראשון שנשלף על ידי המכונה.
- א. חשבו את $P(X = 2)$
- ב. חשבו את $P(X \leq 30)$
- ג. חשבו את $P(X > 4 | X \leq 10)$
- ד. חשבו את $P(X = k)$
2. קוסם מבקש לבחור מספר שלם אקראי בין 1 ל-100. בהנחה שאין כאן מניפולציות של הקוסם.
- א. מהי התוחלת ומהי סטיית התקן של המספר שיבחר?
ב. הקוסם ביקש משישה אנשים לבחור מספר:
1. מה ההסתברות ששלושה מהם יבחרו מספר הגדול מ-80?
2. מה התוחלת ומהי סטיית התקן של סכום המספרים שהאנשים בחרו?
3. יהי X התוצאה בהטלת קובייה.
- א. מהי ההתפלגות של X ?
ב. מה התוחלת של X ?
ג. קובייה הוטלה 4 פעמים. מה התוחלת ומה השונות של סכום התוצאות ב-4 ההטלות?
4. בכד 10 כדורים שרק אחד צבע אדום. אדם מוציא כדור ללא החזרה עד אשר מתקבל הכדור האדום. מה התוחלת ומהי השונות של מספר הכדורים שהוצאו?
5. יש לבחור מספר אקראי בי 1 ל-50 כולל.
- א. מה הסיכוי שהמספר 4 יבחר?
ב. מה הסיכוי שהמספר שיבחר גדול מ-20?
ג. אם נבחר מספר גדול מ-20 מה ההסתברות שהוא קטן מ-28?
6. הוכח שאם $X \sim U(a, b)$ אז מתקיים ש: $E(X) = \frac{a+b}{2}$.

פתרונות :**שאלה 1 :**

א. תשובה: $\frac{1}{45}$

ב. תשובה: $\frac{30}{45}$

ג. תשובה: 0.6

שאלה 2

א. תוחלת : 50.5

סטיית התקן : 28.87

ב. 1. תשובה : 0.08192

ב. 2 תוחלת : 303 סטיית תקן : 70.71

שאלה 4 :

תוחלת 5.5

שונות : 8.25

פרק 18 - התפלגויות בדידות מיוחדות - התפלגות פואסונית

רקע :

התפלגות פואסונית היא התפלגות שמאפיינת את מספר האירועים שמתרחשים ביחידת זמן. λ - פרמטר המאפיין את ההתפלגות הנ"ל. הפרמטר מייצג את קצב האירועים ביחידת זמן. כלומר, כמה בממוצע אירועים קורים ביחידת זמן.

$$X \sim \text{pois}(\lambda)$$

התפלגות פואסונית חייבת להופיע כנתון בשאלה ולכן לא יהיה צורך לזהותה.

פונקציית ההסתברות של ההתפלגות הפואסונית נתונה:

$$P(X = K) = \frac{e^{-\lambda} \cdot \lambda^K}{K!}$$

$$K = 0, 1, 2, \dots, \infty$$

התוחלת והשונות של ההתפלגות:

$$E(X) = V(X) = \lambda$$

תכונות מיוחדות של ההתפלגות:

- בהתפלגות הזו הפרמטר λ פרפורציונלי לאינטרוול הזמן שעליו דנים.
- אינטרוולי זמן לא חופפים בלתי תלויים זה בזה.

דוגמה : (פתרון בהקלטה)

במוקד טלפוני מתקבלות פניות בקצב של 5 פניות לדקה. מספר הפניות בדקה מתפלג פואסונית.

- א. מה ההסתברות שבדקה כלשהי תתקבל פניה 1?
- ב. מה ההסתברות שבשתי דקות יגיעו 12 פניות?
- ג. מה ההסתברות שבדקה אחת תגיע פניה 1 ובשתי דקות שלאחר מכן 12 פניות?
- ד. מה התוחלת וסטיית התקן של מספר הפניות בדקה?

תרגילים:

1. במוקד טלפוני מתקבלות פניות בקצב של 5 פניות לדקה. מספר הפניות בדקה מתפלג פואסונית.
 - א. מה ההסתברות שבדקה תתקבל פניה 1?
 - ב. מה ההסתברות שבדקה תתקבל לפחות פניה 1?
 - ג. מה ההסתברות שבדקה יתקבלו לכל היותר 2 פניות?
 - ד. מה שונות מספר הפניות בדקה?

2. מספר הטעויות לעמוד בעיתון מתפלג פואסונית עם ממוצע של 4 טעויות לעמוד. בחלק מסוים של עיתון ישנם 5 עמודים.
 - א. מה ההסתברות שבחלק זה בדיוק 18 טעויות?
 - ב. אם בעמוד הראשון אין טעויות, מה ההסתברות שבסך הכול החלק ישנן 15 טעויות?
 - ג. אם בחלק של העיתון נמצאו בסך הכול 18 טעויות, מה ההסתברות ש-5 מהן בעמוד הראשון?

3. מספר תאונות הדרכים הקטלניות במדינת ישראל מתפלג פואסונית עם סטיית תקן של 2 תאונות לשבוע.
 - א. מה תוחלת מספר התאונות בשבוע?
 - ב. מהי ההסתברות שבחודש (הנח שבחודש יש 4 שבועות) יהיה בדיוק שבוע אחד בו יהיו 3 תאונות דרכים קטלניות?

4. לחנות AMPM השכונתית מספר הלקוחות שנכנסים מתפלג פואסונית עם ממוצע של 2 לקוחות לדקה.
 - א. מה ההסתברות שבדקה כלשהי יהיו בדיוק 3 לקוחות?
 - ב. מה ההסתברות שבדקה כלשהי יגיח לפחות לקוח אחד?
 - ג. מה ההסתברות שבדקה כלשהי יהיו לכל היותר שני לקוחות?
 - ד. מהי התוחלת ומה סטיית התקן של מספר הלקוחות שנכנסים לחנות בדקה?

5. מספר הלידות בבית חולים מסוים מתפלג פואסונית עם תוחלת של 8 לידות ביום.
 - א. מה ההסתברות שביום א' נולדו 10 תינוקות וביום ב' נולדו 7 תינוקות?
 - ב. מיילדת עובדת במשמרות של 8 שעות. מה ההסתברות שבמשמרת שלה נולדו 3 תינוקות?
 - ג. מהי התוחלת של מספר הימים בשבוע בהם נולדים ביום עשרה תינוקות?

6. במערכת אינטרנט לתשלום חשבונות, מספר החשבונות המשולמים בשעה מתפלג פואסונית עם תוחלת של 30.

א. כמה שעות צפויות לעבור עד אשר תתקבל שעה עם בדיוק 33 חשבונות?

ב. בין השעה 08:00 ל-08:20 היו 18 חשבונות, מה ההסתברות שבין 08:00 ל-08:10 היו בדיוק 6 חשבונות?

פתרונות :**שאלה 1:**

א. 0.0337

ב. 0.9933

ג. 0.1246

ד. 5

שאלה 2:

א. 0.084

ב. 0.099

ג. 0.151

שאלה 3:

א. 4

ב. 0.407

שאלה 5 :

א. 0.2388

ב. 0.2196

ג. 0.6948

שאלה 6 :

א. 16.7

ב. 0.0708

פרק 19 - התפלגויות בדידות מיוחדות - התפלגות היפרגאומטרית

רקע:

נתונה אוכלוסייה המכילה N פריטים, מתוכה D פריטים בעלי תכונה מסוימת- פריטים אלה נקראים "מיוחדים".

בוחרים מאותה אוכלוסייה n פריטים ללא החזרה.

X – מוגדר להיות מספר הפריטים ה"המיוחדים" שנדגמו.

משתנה מקרי היפרגאומטרי עם הפרמטרים (N, D, n) יסומן על ידי $X \sim H(N, D, n)$.

פונקציית ההסתברות של ההתפלגות:

$$P(X = k) = \frac{\binom{D}{k} \binom{N-D}{n-k}}{\binom{N}{n}}$$

התוחלת של ההתפלגות:

$$E(X) = n \cdot \frac{D}{N}$$

השונות של ההתפלגות:

$$V(X) = n \cdot \frac{D}{N} \cdot \left(1 - \frac{D}{N}\right) \cdot \frac{N-n}{N-1}$$

דוגמה: (הפתרון בהקלטה)

בכתה 40 תלמידים מתוכם 10 בנות והשאר בנים. בוחרים קבוצה של ארבעה תלמידים שיסעו למשלחת.

א. כיצד מספר הבנים במשלחת מתפלג?

ב. מה התוחלת ומהי השונות של מספר הבנים במשלחת?

ג. מה הסיכוי שבמשלחת יהיו 3 בנים?

תרגילים:

1. בכד 5 כדורים אדומים ו-4 כדורים ירוקים. מוציאים באקראי שלושה כדורים מהכד.
 - א. בנו את פונקציית ההסתברות של מספר הכדורים האדומים שהוצא בטבלה.
 - ב. חשבו את התוחלת והשונות של מספר הכדורים האדומים שהוצאו. פעם מתוך פונקציית ההסתברות ופעם מתוך הנוסחאות להתפלגות היפרגאומטרית.
 - ג. מה הייתה התוחלת והשונות של מספר הכדורים האדומים אם ההוצאה הייתה עם החזרה?
2. בחידון 10 שאלות משלושה תחומים שונים: 3 בתחום הספורט, 4 בתחום הבידור והיתר בתחום המדעים. משתף בחידון שולף באקראי 4 שאלות. נגדיר את X להיות מספר השאלות מתחום הספורט שנשלפו.
 - א. בנו את פונקציית ההסתברות של X בנוסחה ולא בטבלה.
 - ב. מה התוחלת וסטיית התקן של X ?
 - ג. חשבו את ההסתברות הבאה: $P(X = 2 | X > 1)$
3. זהה בסעיפים הבאים את ההתפלגות וחשב לכל התפלגות את התוחלת והשונות:
 - א. האוכלוסייה גדולה מאד.
 - ב. האוכלוסייה בת 10 אנשים.
 נדגמו 6 אנשים מתוך אוכלוסייה שבה 60% בעלי רישיון נהיגה.
 - א. האוכלוסייה גדולה מאד.
 - ב. האוכלוסייה בת 10 אנשים.
 אנו מתעניינים במספר האנשים שנדגמו עם רישיון נהיגה.
4. בארגון עובדים 7 מהנדסים, 3 טכנאים ו- 5 הנדסאים. בוחרים באופן מקרי משלחת של 4 עובדים לכנס במדריד.
 - א. מהי ההסתברות שייבחרו רק מהנדסים?
 - ב. מה תוחלת מספר הטכנאים שייבחרו?

פתרונות:שאלה 2

- ב. תוחלת: 1.5
 סטיית תקן: 0.748
 ג. 0.9

שאלה 1

- ב. תוחלת: $1\frac{2}{3}$ שונות: $\frac{5}{9}$
 ג. תוחלת: $1\frac{2}{3}$ שונות: $\frac{20}{27}$

פרק 20 - המשתנה המקרי הבדיד - שאלות מסכמות

תרגילים:

1. נתון ש:

$$X \sim B(4, \frac{1}{2})$$

$$Y \sim B(10, \frac{1}{4})$$

א. חשב את התוחלת וסטיית התקן של X .

ב. $W = 2X - 4$, חשב את התוחלת וסטיית התקן של W .

ג. $T = X + Y$, חשב את התוחלת של T . האם ניתן לדעת מה סטיית התקן של T ?

2. ערן משחק בקזינו בשתי מכונות הימורים. משחק אחד בכל מכונה (במכונה א' ובמכונה ב'). הסיכוי

שלו לנצח במשחק במכונה א' הינו 0.08 והסיכוי שלו לנצח רק במכונה א' הינו 0.05. הסיכוי שלו להפסיד בשני המשחקים ביום מסוים הוא 0.88.

א. מה הסיכוי שערן ניצח בשני המשחקים?

ב. מה התוחלת ומהי השונות של מספר הניצחונות של ערן?

ג. אם ערן נכנס לקזינו 5 פעמים ובכל פעם שיחק את שני המשחקים, מה ההסתברות שערן ינצח

בשני המשחקים בדיוק פעם אחת מתוך חמשת הפעמים?

3. לאדם צרור מפתחות. בצרור 5 מפתחות אשר רק אחד מתאים לדלת של ביתו. האדם מנסה את

המפתחות באופן מקרי. לאחר שניסה מפתח מסוים הוא מוציא אותו מהצרור כדי לא להשתמש בו

שוב. נסמן ב- X את מספר הניסיונות עד שהדלת תפתח.

א. בנה את פונקציית ההסתברות של X .

ב. חשב את התוחלת והשונות של X .

ג. כל ניסיון לפתוח הדלת אורך חצי דקה. מה התוחלת ומה השונות של הזמן הכולל לפתיחת

הדלת?

4. מספר התקלות בשידור "בערוץ 1" מתפלג פואסונית בקצב של 6 תקלות ביום.

א. מה ההסתברות שביום מסוים הייתה לפחות תקלה אחת?

ב. מה ההסתברות שבשבוע (7 ימי שידור) יהיו בדיוק 6 ימים בהם לפחות תקלה אחת?

ג. מה תוחלת מספר הימים שיעברו מהיום ועד היום הראשון בו לפחות תהיה תקלה אחת?

5. בעל חנות גדולה בקניון שם לב ש-40% מהמוצרים בחנותו נרכשים עבור ילדים, 35% נרכשים עבור נשים ו-25% נרכשים עבור גברים. 10% מהמוצרים הנרכשים עבור ילדים הם מתוצרת חוץ, וכך גם 60% מהמוצרים הנרכשים עבור נשים ו-50% מאלה הנרכשים עבור גברים.
- א. מה ההסתברות למכור בחנות זו מוצר מתוצרת חוץ?
- ב. יהי X - מספר המוצרים שימכרו בחנות זו מפתחתה ביום א' בבוקר, עד (וכולל) שלראשונה יימכר מוצר מתוצרת הארץ. מהי פונקציית ההסתברות של X ?
- ג. מהי תוחלת מס' המוצרים **מתוצרת חוץ** שימכרו, עד שלראשונה יימכר מוצר מתוצרת הארץ?
- ד. ביום ב' נמכרו בחנות 7 מוצרים. מה ההסתברות שבדיוק 3 מהם הם מתוצרת חוץ?
6. חברת הפקות של סרטים הפיקה 3 סרטים, אשר הופקו לטלוויזיה המקומית.
- חברת ההפקות מנסה למכור את הסרטים הללו לחו"ל.
- להלן ההסתברויות למכירת הסרטים לחו"ל:
- הסרט "הצבי" יימכר לחו"ל בסיכוי של 0.6.
- הסרט "לעולם לא" יימכר לחו"ל בסיכוי של 0.7.
- הסרט "מוות פתאומי" יימכר לחו"ל בסיכוי של 0.2.
- ידוע כי כל סרט עלה להפקה חצי מיליון שקלים. כמו כן, כל סרט הביא להכנסה של 200,000 שקלים מהטלוויזיה המקומית. במידה וסרט יימכר לחו"ל, כל סרט יימכר ב-600,000 שקלים.
- א. בנו את פונקציית ההסתברות של מספר הסרטים שיימכרו לחו"ל.
- ב. מהי התוחלת והשונות של מספר הסרטים שיימכרו?
- ג. מהי התוחלת ומהי סטיית התקן של הרווח (במאות אלפי שקלים) של חברת ההפקה?
7. במפעל מייצרים סוכריות כך ש 20% מהסוכריות בטעם תות. הייצור הוא ייצור המונו. שאר הסוכריות בטעמים שונים, השקיות נארזות ובכל שקית בדיוק 5 סוכריות.
- א. נבחרה שקית ונתון שבשקית פחות מ-3 סוכריות אדומות. מה ההסתברות שבשקית סוכריה אדומה אחת?
- ב. בוחרים באקראי שקית אחר שקית במטרה למצוא שקית ללא סוכריות אדומות. מה ההסתברות שייאלצו לדגום יותר מ-6 שקיות?

8. מבחן בנוי משני חלקים. בחלק א' 10 שאלות ובחלק ב' 10 שאלות. תלמיד התכוון רק לחלק א' של המבחן ובחלק זה בכל שאלה יש סיכוי של 0.8 שיענה נכון, בחלק השני לכל שאלה יש 4 תשובות כשרק אחת נכונה. בחלק זה הוא מנחש את התשובות.

- א. מהי ההסתברות שבחלק הראשון הוא יענה נכון על 7 שאלות בדיוק?
- ב. מהי ההסתברות שבחלק השני הוא יענה נכון על פחות מ-3 שאלות?
- ג. מה התוחלת ומהי השונות של מספר התשובות הנכונות בחלק הראשון?
- ד. מהי התוחלת ומהי השונות של מספר התשובות הנכונות בבחינה כולה?

9. יהי X משתנה מקרי המקיים $E(X) = 2$ וכן $V(X) = 1$. חשב $E(X - 5)^2$.

10. הסיכוי לעבור מבחן נהיגה הינו P . בוחרים באקראי ארבעה נבחנים. ההסתברות ששניים מהם יעברו את מבחן הנהיגה גבוה פי $3/8$ מהסיכוי שכל הארבעה יעברו את המבחן.

- א. חשבו את ערכו של P .

תלמיד ניגש לבחינה עד אשר הוא עובר אותה.

- ב. מה ההסתברות שיעבור את מבחן הנהיגה רק במבחן הרביעי?
- ג. מה ההסתברות שיאלץ לגשת לפחות לחמישה מבחנים בסך הכול?
- ד. מה התוחלת ומהי השונות של מספר המבחנים שבהם יכשל?
- ה. ידוע שהתלמיד ניגש לשלושה מבחנים ועדיין לא עבר. מה ההסתברות שבסופו של דבר יעבור במבחן הנהיגה החמישי?

פתרונות :**שאלה 1:**

א. תוחלת: 2

ב. סטיית תקן: 1

ג. תוחלת: 0

ד. סטיית תקן: 2

ה. תוחלת: 4.5

ו. סטיית תקן: לא ניתן

שאלה 2:

א. 0.03

ב. תוחלת: 0.15, שונות 0.1875

ג. 0.1328

שאלה 3:

א.

5	4	3	2	1	x
0.2	0.2	0.2	0.2	0.2	P(x)

ב. תוחלת: 3

ג. שונות: 2

ד. תוחלת: 1.5

ה. שונות: 0.5

שאלה 4 :

א. 0.9975

ב. 0.0172

ג. 1.0025

שאלה 5:

א. 0.375

ג. 0.6

ד. 0.282

שאלה 6:

ב. תוחלת : 1.5

שונות 0.61

ג. תוחלת : 0

סטיית תקן : 4.68

שאלה 7:

א. 0.4348

ב. 0.0923

שאלה 8:

א. 2.013

ב. 0.5256

ג. תוחלת : 8

שונות : 1.6

ד. תוחלת : 10.5

שונות 3.475

שאלה 9:

10

שאלה 10:

א. 0.6

ב. 0.0384

ג. 0.0256

ד. תוחלת : 0.67

שונות : 1.11

ה. 0.24

פרק 21 - המשתנה המקרי הרציף - התפלגויות כלליות (שימוש באינטגרלים)

רקע:

בפרק זה נעסוק בהתפלגות של משתנים מקריים רציפים (גובה אדם אקראי, זמן תגובה וכו'). משתנים רציפים הם משתנים שבתחום מסוים מקבלים רצף אינסופי של ערכים אפשריים בניגוד למשתנים בדידים.

נתאר את המשתנה המקרי הרציף על ידי פונקציה הנקראת פונקציית צפיפות. באופן כללי נסמן פונקציית צפיפות של משתנה רציף כלשהו ב $f(x)$.

השטח שמתחת לפונקציית הצפיפות נותן את ההסתברות.

פונקציית צפיפות חייבת להיות לא שלילית והשטח הכולל שמתחת לפונקציה יהיה תמיד 1.

פונקציית התפלגות מצטברת:

$$F(t) = p(X \leq t) = \int_{-\infty}^t f(x) dx$$

כמו כן:

$$p(a < X < b) = F(b) - F(a)$$

$$p(X > t) = 1 - F(t)$$

תוחלת של משתנה רציף:

$$E(X) = \int_{-\infty}^{\infty} X \cdot f(x) dx = \mu$$

שונות של משתנה רציף:

$$V(X) = \int_{-\infty}^{\infty} X^2 \cdot f(x) dx - \mu^2 = \sigma^2$$

תוחלת של פונקציה של X:

$$E(g(x)) = \int_{-\infty}^{\infty} g(x) f(x) dx$$

אחוזונים:

האחוזון ה- P הוא ערך (נסמן אותו: x_p) שהסיכוי ליפול מתחתיו הוא P. כלומר:

$$p(X \leq x_p) = p$$

ריענון מתמטי:נוסחאות לחישוב שטחים:

$$S_{\text{triangle}} = \frac{h \cdot a}{2} \quad \text{שטח משולש: גובה (h) כפול הבסיס (a) חלקי 2}$$

$$S_{\text{rectangle}} = a \cdot b \quad \text{שטח מלבן: אורך (a) כפול רוחב (b)}$$

משוואת קו ישר:

$$y = mx + n$$

$$\text{שיפוע} = m$$

$$n = \text{נקודת החיתוך עם ציר ה-y.}$$

$$m = \frac{Y_2 - Y_1}{X_2 - X_1} : (X_1, Y_1), (X_2, Y_2) : \text{שיפוע של ישר העובר דרך שתי נקודות}$$

משוואת ישר שעובר דרך נקודה ספציפית (X_1, Y_1) ושיפועו ידוע m :

$$y - Y_1 = m(x - X_1)$$

נוסחאות - אינטגרלים

$$\int adx = ax + c$$

$$\int x^n dx = \frac{x^{n+1}}{n+1} + c \quad n \neq -1$$

$$\int \frac{1}{x} dx = \ln |x| + c$$

$$\int e^x dx = e^x + c$$

$$\int k^x dx = \frac{k^x}{\ln k} + c$$

$$\int \cos x dx = \sin x + c$$

$$\int \sin x dx = -\cos x + c$$

$$\int \tan x dx = -\ln |\cos x| + c$$

$$\int \cot x dx = \ln |\sin x| + c$$

$$\int \frac{1}{\cos^2 x} dx = \tan x + c$$

$$\int \frac{1}{\sin^2 x} dx = -\cot x + c$$

$$\int (ax + b)^n dx = \frac{1}{a} \frac{(ax + b)^{n+1}}{n+1} + c \quad n \neq -1$$

$$\int \frac{1}{ax + b} dx = \frac{1}{a} \ln |ax + b| + c$$

$$\int e^{ax+b} dx = \frac{1}{a} e^{ax+b} + c$$

$$\int k^{ax+b} dx = \frac{1}{a \ln k} k^{ax+b} + c$$

$$\int \cos(ax + b) dx = \frac{1}{a} \sin(ax + b) + c$$

$$\int \sin(ax + b) dx = -\frac{1}{a} \cos(ax + b) + c$$

$$\int \tan(ax + b) dx = -\frac{1}{a} \ln |\cos(ax + b)| + c$$

$$\int \cot(ax + b) dx = \frac{1}{a} \ln |\sin(ax + b)| + c$$

$$\int \frac{1}{\cos^2(ax + b)} dx = \frac{1}{a} \tan(ax + b) + c$$

$$\int \frac{1}{\sin^2(ax + b)} dx = -\frac{1}{a} \cot(ax + b) + c$$

$$\int \frac{1}{\cos x} dx = \ln \left| \frac{1}{\cos x} + \tan x \right| + c$$

$$\int \frac{1}{x^2 + a^2} dx = \frac{1}{a} \arctan \left(\frac{x}{a} \right) + c$$

$$\int \frac{1}{\sqrt{a^2 - x^2}} dx = \arcsin \left(\frac{x}{a} \right) + c$$

$$\int \frac{1}{\sin x} dx = \ln \left| \frac{1}{\sin x} - \cot x \right| + c$$

$$\int \frac{1}{x^2 - a^2} dx = \frac{1}{2a} \ln \left| \frac{x-a}{x+a} \right| + c$$

$$\int \frac{1}{\sqrt{x^2 \pm a^2}} dx = \ln |x + \sqrt{x^2 \pm a^2}| + c$$

$$\int \frac{f'}{f} dx = \ln |f| + c$$

$$\int e^f \cdot f' dx = e^f + c$$

$$\int \sin f \cdot f' dx = -\cos(f) + c$$

$$\int \sqrt{f} \cdot f' dx = \frac{2}{3} f^{\frac{3}{2}} + c$$

$$\int f \cdot f' dx = \frac{1}{2} f^2 + c$$

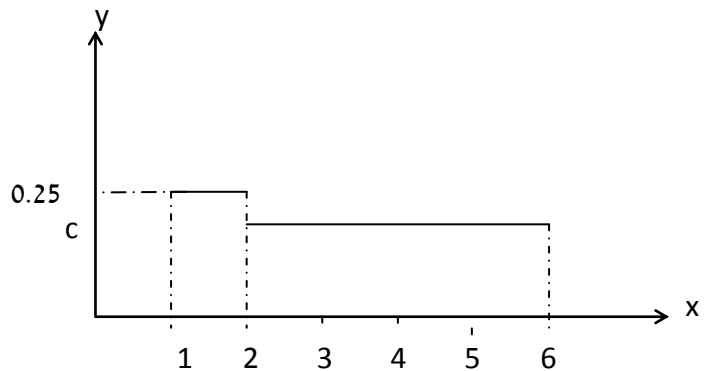
$$\int \cos f \cdot f' dx = \sin(f) + c$$

$$\int \frac{f'}{\sqrt{f}} dx = 2\sqrt{f} + c$$

$$\int u \cdot v' dx = u \cdot v - \int u' \cdot v dx$$

תרגילים:

1. X הינו משתנה רציף עם פונקציה צפיפות כמוצג בשרטוט:



א. מצא את ערכו של c .

ב. בנה את פונקציה ההתפלגות המצטברת.

ג. חשבו את ההסתברויות הבאות:

1. $P(x < 4)$

2. $P(x > 1.5)$

3. $P(1.5 < x < 5)$

4. $P(5 < x < 10)$

ד. מצא את החציון של המשתנה.

2. נתון משתנה מקרי רציף X שפונקציה הצפיפות שלו היא:

$$f(x) = \begin{cases} cx & 0 \leq x \leq b \\ 0 & \text{אחרת} \end{cases}$$

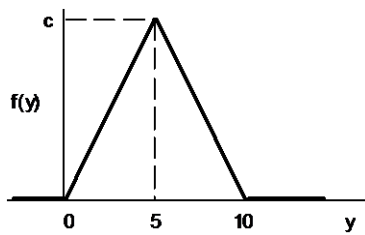
ידוע ש- $P(0 < X < 1) = 1/4$.

א. מצאו במפורש את פונקציה הצפיפות של X .

ב. מצאו את החציון של X .

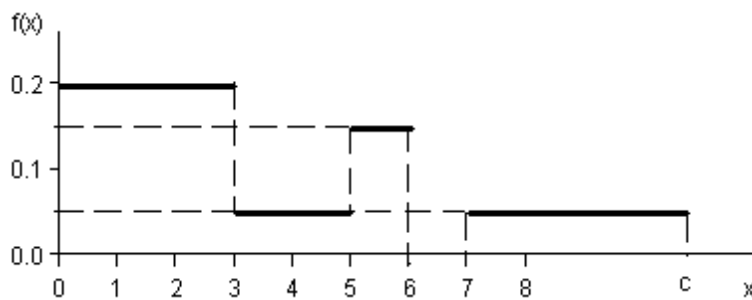
ג. מה הסיכוי ש- X קטן מ-0.5?

3. נתונה פונקציית צפיפות של משתנה מקרי Y :



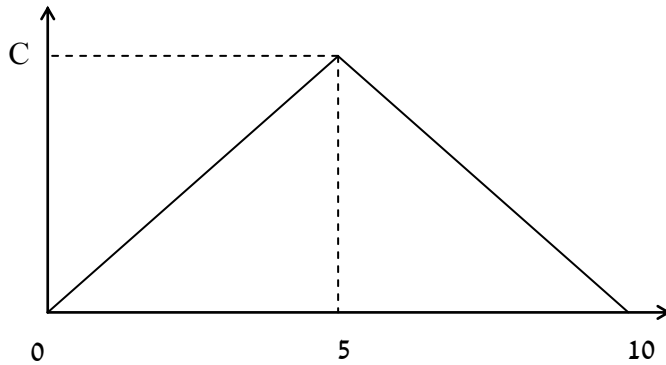
- א. מצאו את c .
 ב. מצאו את פונקציית ההתפלגות המצטברת של Y .
 ג. חשבו את ההסתברויות: $P(Y > 4)$, $P(7.5 \leq Y \leq 15.5)$, $P(Y \leq 3.0)$, $P(Y = 7.0)$.
 ד. מצאו את העשירון התחתון $y_{0.1}$, הרבעון התחתון $y_{0.25}$ והחציון של Y . הסיקו מהו העשירון עליון $y_{0.9}$.

4. נתונה פונקציית צפיפות של משתנה מקרי X :



- א. מצאו ערך c שעבורו תתקבל פונקציית צפיפות.
 ב. מצאו את פונקציית ההתפלגות המצטברת.
 ג. חשבו את ההסתברויות הבאות: $P(1.0 < X \leq 5.0)$, $P(X \geq -2.0)$, $P(X \geq 4)$.

5. נתונה פונקציה צפיפות הבאה :



א. מה ערכו של C?

ב. מצא אינטרוול (תחום) סימטרי סביב הערך 5 שהסיכוי ליפול בו הינו 0.5

6. נתונה פונקציה צפיפות $f(X) = \frac{2}{x}$ פונקציה זו מוגדרת מ-1 ועד K.

א. מצא את ערכו של K.

ב. בנה את פונקציית ההתפלגות המצטברת.

ג. חשב את הסיכוי ש X לפחות 1.5.

ד. מצא את העשירון התחתון של ההתפלגות.

ה. מה התוחלת של X?

7. נתונה פונקציה צפיפות הבאה: $f(X) = AX^2(10 - X)$ $0 < X < 10$ A הינו קבוע חיובי.

א. מצא את A.

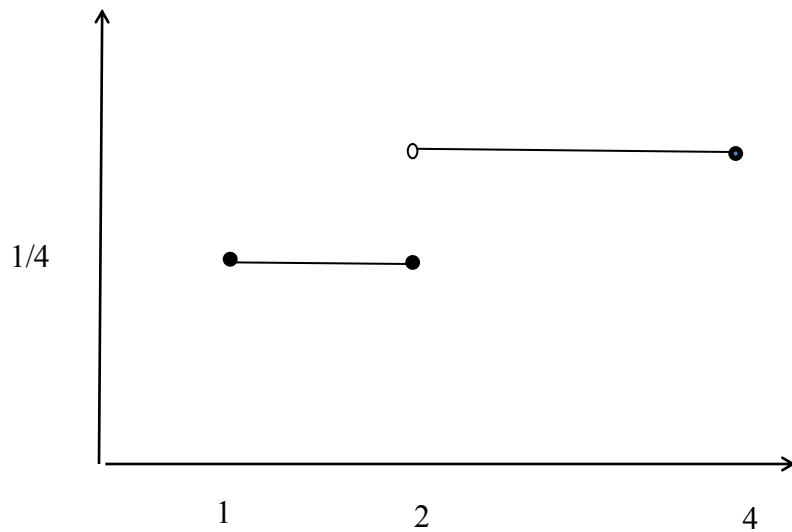
ב. חשב את $P(x > 5 | x > 2)$.

ג. מה התוחלת ומהי השונות של X?

8. פונקצית הצפיפות של משתנה מקרי רציף X :
 $f(x) = 0.5 \cdot e^{2x}$
 $-\infty \leq X \leq \ln(c)$

- מצא את ערכו של c .
- מצא את פונקציית ההתפלגות המצטברת של ההתפלגות.
- חשב $P(X > 0)$.
- מהו הרבעון העליון של ההתפלגות?

9. נתונה פונקצית הצפיפות הבאה של משתנה מקרי X :



- רשום את נוסחת פונקציית הצפיפות.
- בנה את פונקציית ההתפלגות המצטברת.
- מצא את החציון של ההתפלגות.
- חשב את התוחלת והשונות של המשתנה.
- חשב את $E(X^3)$.

10. במפעל מייצרים מוצר A. זמן תהליך הייצור של המוצר בשעות הוא בעל פונקציית הצפיפות הבאה:

$$f(x) = 6x(1-x) \quad 0 \leq x \leq 1$$

- א. מה ההסתברות שזמן הייצור של מוצר A אקראי יהיה קטן מ 20 דקות?
 ב. מה ההסתברות שזמן הייצור של מוצר A אקראי יהיה בדיוק חצי שעה?
 ג. נבחרו חמישה מוצרים אקראיים מסוג A. מה תוחלת מספר המוצרים שזמן הייצור שלהם יהיה גדול מ 20 דקות?

11. זמן ההמתנה בדקות של לקוח בתור למכולת השכונתית מתפלג עם פונקציית ההתפלגות המצטברת הבאה:

$$F(t) = 1 - e^{-0.2t}$$

- א. שרטט את פונקציית ההתפלגות המצטברת.
 ב. מה הסיכוי שזמן ההמתנה יהיה לפחות רבע שעה?
 ג. אם חיכיתי בתור כבר 10 דקות מה ההסתברות שאאלץ לחכות בסך הכול פחות מרבע שעה?
 ד. מהו הזמן ש-90% מהלקוחות מחכים מתחתיו?

12. פונקציית הצפיפות של משתנה מקרי נתונה על ידי הנוסחה הבאה:

$$f(x) = \begin{cases} 0 & x < 4 \\ bx - 4b & 4 \leq x \leq 5 \\ b & 5 < x \leq 6 \\ 0 & x > 6 \end{cases}$$

- א. מצאו את b.
 ב. חשבו את התוחלת של X.
 ג. y הוא משתנה אינדיקטור המקבל את הערך 1 אם X קטן מ-5. מהי השונות של Y?

13. נתונה פונקציית הצפיפות הבאה :

$$f(x) = \begin{cases} \frac{x^2}{4} & 1 \leq x \leq 2 \\ kx & 2 < x \leq 3 \end{cases}$$

- א. מצאו את ערכו של k .
 ב. מצאו את פונקציית ההתפלגות המצטברת.
 ג. חשבו $p(x > 2.5)$

14. להלן משתנה מקרי בעל פונקציית צפיפות הבאה :

$$f(x) = \frac{1}{b-a}$$

$$a \leq x \leq b$$

- א. מצא את פונקציית ההתפלגות המצטברת.
 ב. חשב את התוחלת והשונות של ההתפלגות.

ג. מצא את התוחלת של $\frac{1}{X}$.

פתרונות :שאלה 1 :

$$\text{א. } \frac{3}{16} \quad \text{ד. } \frac{1}{3}$$

שאלה 2 :

$$\text{א. } c=0.5 \quad b=2$$

$$\text{ב. } 1.41$$

$$\text{ג. } 0.0625$$

שאלה 3 :

$$\text{א. } 0.2$$

$$\text{ג. } 0, 0.18, 0.125, 0.32$$

ד. העשירון התחתון : 2.24

הרבעון התחתון : 3.54

החציון : 5

העשירון העליון : 7.76

שאלה 4 :

$$\text{א. } 10$$

שאלה 5 :

$$\text{א. } C=0.2$$

$$\text{ב. } 5 \pm 1.46$$

שאלה 6 :

$$\text{א. } \frac{1}{e^2}$$

$$\text{ג. } 0.189$$

$$\text{ד. } 1.051$$

$$\text{ה. } 1.297$$

שאלה 7 :

$$\text{א. } 0.0012$$

$$\text{ב. } 0.7067$$

שאלה 8 :

$$\text{א. } 2$$

$$\text{ג. } 0.75$$

$$\text{ד. } 0.549$$

ג. תוחלת : 6, שונות : 4

שאלה 9 :

ג. $2\frac{2}{3}$

ד. תוחלת : 2.625 שונות : 0.6927

ה. 23.4375

שאלה 10 :

א. $\frac{7}{27}$

ב. 0

ג. 3.704

שאלה 11 :

א. $\frac{2}{3}$

ב. 5.22

ג. $\frac{2}{9}$

שאלה 12 :

ב. תוחלת :

$$E(X) = \frac{a+b}{2}$$

השונות :

$$V(x) = \frac{(b-a)^2}{12}$$

שאלה 13 :

ב. 0.0498

ג. 0.6321

ד. 11.51

שאלה 14 :

א. $\frac{1}{6}$

ג. 0.229

פרק 22 - התפלגויות רציפות מיוחדות - התפלגות מעריכית

רקע:

התפלגות זו היא התפלגות רציפה המאפיינת את הזמן עד להתרחשות מאורע מסוים. λ - הוא ממוצע מספר האירועים המתרחשים ביחידת זמן (אותו פרמטר מההתפלגות הפואסונית).

$$X \sim \exp(\lambda) \text{ כאשר } \lambda > 0$$

התפלגות זו צריכה להיות נתונה בתרגיל או שיאמר שמספר האירועים ביחידת זמן מתפלג פואסונית ואז הזמן עד להתרחשות המאורע הבא מתפלג מעריכית.

פונקציית הצפיפות של ההתפלגות היא:

$$f(x) = \lambda e^{-\lambda x} \text{ לכל } x \geq 0$$

פונקציית ההתפלגות המצטברת היא:

$$F(t) = p(x \leq t) = 1 - e^{-\lambda t}$$

התוחלת:

$$E(x) = \frac{1}{\lambda}$$

השונות:

$$V(x) = \frac{1}{\lambda^2}$$

- להתפלגות זו יש תכונת חוסר הזיכרון: $P(X > a + b | X > a) = P(X > b)$

דוגמה: (פתרון בהקלטה)

- אורך חיי סוללה מתפלג מעריכית עם תוחלת של 8 שעות.
- מה ההסתברות שסוללה תחזיק מעמד פחות מ- 9 שעות?
 - מה סטיית התקן של אורך חיי הסוללה?
 - אם סוללה כבר חייה מעל שעתיים, מה הסיכוי שהיא תחיה מעל 7 שעות בסך הכול?

תרגילים:

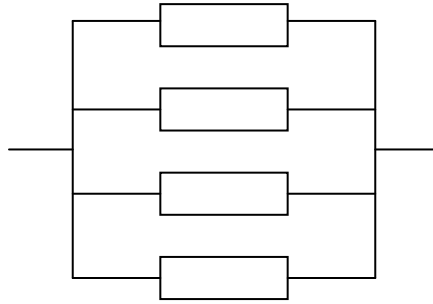
1. הזמן שלוקח במערכת עד שתקלה מתרחשת מתפלג מעריכית עם תוחלת של 0.5 שעה.
 - א. מה הסתברות שהתקלה הבאה תתרחש תוך יותר מ-0.5 שעה?
 - ב. מה ההסתברות שהתקלה הבאה תתרחש תוך פחות משעה?
 - ג. מצא את הזמן החציוני להתרחשות תקלה במערכת.

2. הזמן שעובר בכביש מסוים עד להתרחשות תאונה מתפלג מעריכית עם תוחלת של 24 שעות.
 - א. מהי סטיית התקן של הזמן עד להתרחשות תאונה?
 - ב. מה ההסתברות שהתאונה הבאה תתרחש תוך פחות מיממה?
 - ג. מהי ההסתברות שהתאונה הבאה תתרחש תוך לפחות יומיים?

3. משך הזמן X (בדקות) שסטודנטים עובדים רצוף על מחשב מתפלג מעריכית עם תוחלת של 30 דקות.
 - א. מה הסיכוי שעבודת סטודנט על המחשב תארך פחות מרבע שעה?
 - ב. מה הסיכוי שעבודת סטודנט על המחשב תארך בין רבע שעה לחצי שעה?
 - ג. אם סטודנט עובד על המחשב כבר יותר מ-10 דקות, מה ההסתברות שמשך כל עבודתו יעלה על 30 דקות?
 - ד. מהו הזמן שבסיכוי של 90% הסטודנט יעבוד פחות ממנו?

4. בממוצע מגיעים לחדר מיון 4 חולים בשעה בזרם פואסוני.
 - א. שולה המזכירה הגיעה לחדר המיון. מה ההסתברות שזמן ההמתנה שלה לחולה הבא יהיה יותר מ-20 דקות?
 - ב. אם שולה המתינה יותר מרבע שעה לחולה הבא. מה ההסתברות שתמתין בסך הכל יותר מחצי שעה?
 - ג. מה ההסתברות שבין החולה הראשון לשני יש להמתין יותר מרבע שעה ובין החולה השני לשלישי יש להמתין פחות מרבע שעה?

5. מערכת חשמלית כוללת 4 רכיבים אלקטרוניים זהים הפועלים במקביל כמוראה בשרטוט:



על מנת שהמערכת תפעל בצורה תקינה נדרש שלפחות אחד מהמרכיבים יהיה תקין. אורך החיים של כל רכיב מתפלג מעריכית עם ממוצע של 100 שעות.

- א. מה ההסתברות שהמערכת תפעל בצורה תקינה במשך 100 שעות לפחות?
 ב. מעוניינים להוסיף במקביל עוד רכיב למערכת. עלות הוספת רכיב היא K ₪. כמו כן אם המערכת עבדה פחות מ-100 שעות נגרם הפסד של A ₪. מה התנאי שבו יהיה כדאי להוסיף את הרכיב למערכת?

פתרונות:**שאלה 1:**

א. 0.368

ב. 0.865

ג. 0.347

שאלה 2:

א. 24 שעות

ב. 0.632

ג. 0.135

שאלה 3:

א. 0.393

ב. 0.239

ג. 0.513

ד. 69.08

שאלה 4:

א. 0.264

ב. 0.368

ג. 0.233

שאלה 5:

א. 0.8403

ב. A0.0588>K

פרק 23 - התפלגויות רציפות מיוחדות - התפלגות אחידה

רקע:

זו התפלגות שפונקציית הצפיפות שלה קבועה בין a לבין b.

$$X \sim U(a, b)$$

פונקציית הצפיפות :

$$f(x) = \frac{1}{b-a}$$

$$a \leq x \leq b$$

פונקציית ההתפלגות המצטברת:

$$F(t) = \frac{t-a}{b-a}$$

התוחלת :

$$E(X) = \frac{a+b}{2}$$

השונות:

$$V(x) = \frac{(b-a)^2}{12}$$

דוגמה : (הפתרון בהקלטה)

X-משתנה מקרי רציף המתפלג באופן אחיד בין 20 ל-40.

א. מה הסיכוי ש-X קטן מ-25?

ב. מה התוחלת והשונות של X?

תרגילים:

1. משך (בדקות) הפסקה בשיעור, X , מתפלג $U(13, 16)$.
 - א. מהי התוחלת ומהי סטית התקן של משך ההפסקה?
 - ב. מהי ההסתברות שהפסקה תמשך יותר מ-15 דקות?
 - ג. מהי ההסתברות שמשך ההפסקה יסטה מהתוחלת בפחות מדקה?

2. רכבת מגיעה לתחנה בשעות היום כל עשר דקות. אדם הגיע לתחנה בזמן אקראי.
 - א. הסבר כיצד מתפלג זמן ההמתנה לרכבת?
 - ב. אם זמן ההמתנה לרכבת ארך יותר מ-5 דקות, מהי ההסתברות שבסך הכל האדם ימתין לרכבת פחות מ-8 דקות?
 - ג. מה תוחלת מספר הימים שיעברו עד הפעם הראשונה שהאדם ימתין לרכבת יותר מ-9 דקות?

3. מכונה אוטומטית ממלאת גביעי גלידה. משקל הגלידה לגביע מתפלג אחיד בין 100-110 גרם (המשקל הוא של גלידה ללא הגביע).
 - א. מה ההסתברות שמשקל הגלידה בגביע יהיה מעל 108 גרם?
 - ב. נתון שהגלידה בגביע עם משקל נמוך מ-107 גרם. מה ההסתברות שמשקל הגלידה יהיה מעל 105 גרם?
 - ג. מה העשירון העליון של משקל הגלידה בגביע?

פתרונות:**שאלה 2:**א. $X \sim U(0,10)$

ב. 0.6

ג. 10

שאלה 1:

א. תוחלת: 14.5

שונות: 0.866

ב. $1/3$ ג. $2/3$ **שאלה 3:**

א. 0.2

ב. $\frac{2}{7}$

ג. 109

פרק 24 - משתנה דו מימדי בדיד - פונקצית הסתברות משותפת

רקע:

התפלגות דו ממדית הינה התפלגות שדנה בשני משתנים.

נרצה כעת לבנות פונקציית הסתברות דו ממדית.

בפונקציה שכזו יש התפלגות של שני משתנים בו זמנית : Y ו X .

דוגמה:

תלמיד ניגש בסמסטר לשני מבחנים מבחן בכלכלה ומבחן בסטטיסטיקה.

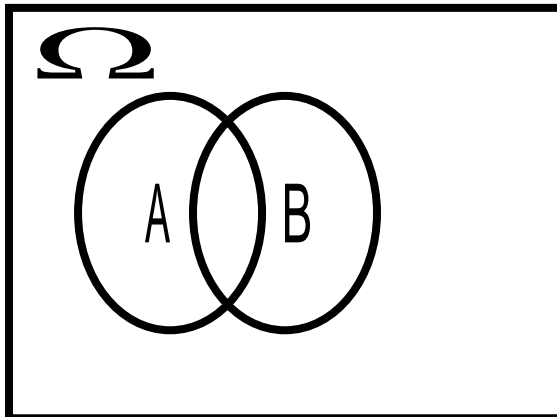
כמו כן נתון שהסיכוי לעבור את המבחן בכלכלה הנו 0.8 והסיכוי לעבור את המבחן בסטטיסטיקה הנו 0.9.

הסיכוי לעבור את שני המבחנים הנו 0.75.

יהי X - מספר הקורסים שהסטודנט עבר.

יהי Y - משתנה אינדיקטור המקבל את הערך אחד אם הסטודנט עבר את הבחינה בכלכלה ואפס אחרת.

בנו את פונקציית ההסתברות המשותפת של Y ו X .



נחשב את כל ההסתברויות המשותפות :

$$p(x = 0, y = 0) = 0.05$$

$$p(x = 0, y = 1) = 0$$

$$p(x = 1, y = 0) = 0.15$$

$$p(x = 1, y = 1) = 0.05$$

$$p(x = 2, y = 0) = 0$$

$$p(x = 2, y = 1) = 0.75$$

$y \backslash X$	0	1	2
0	0.05	0.15	0
1	0	0.05	0.75

שימו לב שסכום כל ההסתברויות בפונקציית ההסתברות המשותפת הוא 1.

כעת נסכם את השורות ואת העמודות ונקבל את פונקציות הסתברות שוליות:

$y \backslash X$	0	1	2	P_Y
0	0.05	0.15	0	0.2
1	0	0.05	0.75	0.8
P_X	0.05	0.2	0.75	1

משתנים בלתי תלויים:

X ו Y יהיו משתנים בלתי תלויים אם עבור כל X ו- Y אפשריים התקיים הדבר הבא:

$$p(x=k, y=l) = p(x=k) \cdot p(y=l)$$

מספיק פעם אחת שהמשתנים אינם מקיימים תנאי זה אזי הם תלויים.

למשל, בדוגמה הזאת:

$$p(x=2, y=1) = 0.75 \neq p(x=2) \cdot p(y=1) = 0.75 \cdot 0.8 = 0.6$$

ככלל אם יש אפס בתוך פונקציית ההסתברות המשותפת ניתן להבין באופן מידי שהמשתנים תלויים. שאז הרי התנאי לא מתקיים.
אך אם אין אפס בטבלה אין זה אומר שהמשתנים בלתי תלויים ויש לבדוק זאת.

תרגילים :

1. אדם נכנס לקזינו עם 75 דולר. הוא ישחק במכונת מזל בה יש סיכוי של 03 לנצח. במקרה של ניצחון במשחק הוא יקבל מהקזינו 25 דולר ובמקרה של הפסד הוא ישלם 25 דולר. אותו אדם החליט שיפסיק לשחק ברגע שיהיה לו 100 דולר, אך בכל מקרה לא ישחק יותר מ-3 משחקים. נגדיר את X להיות הכסף שברשות האדם בצאתו מהקזינו ואת Y מספר המשחקים שהאדם שיחק.
- א. בנו את פונקציית ההסתברות המשותפת והשוליות.
- ב. מה תוחלת מספר המשחקים שישחק האדם?
- ג. אם האדם יצא מהקזינו שברשותו 100 דולר, מה התוחלת ומהי השונות של מספר המשחקים ששיחק?

2. להלן פונקציית ההסתברות המשותפת והשוליות של שני משתנים מקריים בדידים:

$Y \setminus X$	0	1	2	$P(Y)$
2		0.08	0.12	0.4
3	0.1	0.05		
4				0.45
$P(X)$		0.4	0.2	

- א. השלם את ההסתברויות החסרות בטבלה.
- ב. האם X ו- Y תלויים?
- ג. מצא את הסתברות ש- $Y=3$, אם ידוע ש- $X=1$.
3. מפעל משווק מוצר הנארז בחבילות בגדלים שונים. ישנו מספר שווה של חבילות בנות שני מוצרים ושלושה מוצרים. ההסתברות שמוצר מסוים יהיה פגום היא $1/10$. מהנדס הייצור בוחר באקראי חבילת מוצרים לשם בקורת איכות. יהיו: X מספר המוצרים בחבילה, Y מספר המוצרים הפגומים בחבילה.
- א. מה ההתפלגות של המשתנה Y בהינתן X הינו 3.
- ב. מה ההתפלגות של המשתנה Y בהינתן X הינו K כלשהו.
- ג. מהי תוחלת מספר המוצרים הפגומים בחבילות בנות 3 מוצרים? נמקו.
- ד. בנה את פונקציית ההסתברות המשותפת.

4. מתוך כד עם שלושה כדורים ממוספרים במספרים 2, 4, 8 שולפים באקראי שני כדורים ללא החזרה. נגדיר: X - המספר הקטן מבין השניים; Y - המספר הגדול מבין השניים.
- א. חשבו את ההתפלגות של (X, Y) .
- ב. אם המספר המינימאלי שנבחר הוא 2, מה הסיכוי שהמספר המקסימאלי 8?
- ג. חשבו את ההתפלגות המותנית של X בהינתן $Y = 4$. מצאו $E(X / Y = 4)$.

5. ביישוב שני סניפי בנק. סניף פועלים וסניף לאומי. להלן הנתונים לגבי האוכלוסייה הבוגרת המתגוררת ביישוב:

ל-60% יש חשבון בסניף פועלים של היישוב.

ל-50% יש חשבון בסניף לאומי של היישוב.

ל-95% יש חשבון בלפחות אחד מהסניפים.

יהי X - מספר הסניפים ביישוב אשר לתושב בוגר יש בהם חשבון.

יהי Y - משתנה אינדיקטור:

1- אם יש לתושב חשבון בסניף פועלים.

0- אחרת.

א. בנו את פונקציית ההסתברות המשותפת של X ו- Y .

ב. הוסיפו את פונקציית ההסתברות השולית.

ג. ידוע שלתושב בוגר חשבון בבנק פועלים, מה ההסתברות שיש לו חשבון בנק בסניף אחד בלבד?

פתרונות:**שאלה 1:**

ב. 2.4

ג. התוחלת 1.348 השונות 0.575

שאלה 2:

ב. תלויים

ג. 0.125

שאלה 4:

ב. 0.5

ג. תוחלת 2

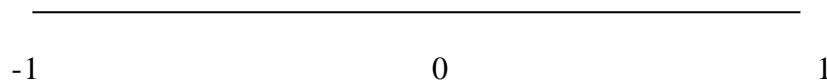
שאלה 5:

ג. 0.75

פרק 25 - משתנה דו מימדי בדיד - מתאם בין משתנים

רקע:

נרצה לבדוק את מידת ההתאמה הלינארית בין שני המשתנים .
 על ידי מקדם המתאם הלינארי שמסומן ב ρ .
 מקדם מתאם זה מקבל ערכים בין 1 ל-1 .



מקדם מתאם 1- או 1 אומר שקיים קשר לינארי מוחלט ומלא בין המשתנים שניתן לבטאו על ידי הנוסחה : $y = ax + b$.

מתאם חיובי מלא (מקדם מתאם 1) אומר שקיים קשר לינארי מלא בו השיפוע a יהיה חיובי ואילו מתאם שלילי מלא אומר שקיים קשר לינארי מלא בו השיפוע a שלילי (מקדם מתאם -1) .

מתאם חיובי חלקי אומר שככל שמשתנה אחד עולה לשני יש נטייה לעלות בערכו אבל לא קיימת נוסחה לינארית שמקשרת את X ל-Y באופן מוחלט ואילו מתאם שלילי חלקי אומר שככל שמשתנה אחד עולה לשני יש נטייה לרדת אבל לא קיימת נוסחה לינארית שמקשרת את X ל-Y באופן מוחלט .

חישוב מקדם המתאם :

$$\rho = \frac{\text{cov}(x, y)}{\sigma_x \cdot \sigma_y} : \text{ הנוסחה של מקדם המתאם היא } :$$

השונוות המשותפת :

$$\text{cov}(x, y) = E[(x - \mu_x)(y - \mu_y)] = E(x \cdot y) - E(x) \cdot E(y)$$

תכונות של השונוות המשותפת :

$$1. \text{cov}(X, Y) = \text{cov}(Y, X)$$

$$2. \text{cov}(X, X) = \text{Var}(X)$$

משתנים בלתי מתואמים :

משתנים בלתי מתואמים הם משתנים שמקדם המתאם שלהם אפס וכדי שדבר כזה יקרה השונות המשותפת צריכה להתאפס.

משתנים בלתי מתואמים הם משתנים שכלל אין בינם התאמה לינארית.

משתנים בלתי תלויים הם משתנים שאין בינם קשר ולכן הם גם בלתי מתואמים, אך משתנים בלתי מתואמים אינם בהכרח בלתי תלויים.

השפעת טרנספורמציה לינארית על מקדם המתאם

$$\rho[(aX + b), (cY + d)] = \begin{cases} \rho(X, Y) & \text{if } a \cdot c > 0 \\ -\rho(X, Y) & \text{if } a \cdot c < 0 \end{cases}$$

כלומר, טרנספורמציה לינארית על שני משתנים לא משנה את עוצמת הקשר בינם היא עלולה לשנות רק את כיוון הקשר.

דוגמה: (פתרון בהקלטה)

נחזור לדוגמה שהוצגה בפרק הקודם:

תלמיד ניגש בסמסטר לשני מבחנים מבחן בכלכלה ומבחן בסטטיסטיקה.

כמו כן נתון שהסיכוי לעבור את המבחן בכלכלה הנו 0.8 והסיכוי לעבור את המבחן בסטטיסטיקה הנו 0.9.

הסיכוי לעבור את שני המבחנים הנו 0.75.

יהי X - מספר הקורסים שהסטודנט עבר.

יהי Y - משתנה אינדיקטור המקבל את הערך אחד אם הסטודנט עבר את הבחינה בכלכלה ואפס אחרת.

נחשב את מקדם המתאם:

$Y \backslash X$	0	1	2	P_Y
0	0.05	0.15	0	0.2
1	0	0.05	0.75	0.8
P_X	0.05	0.2	0.75	1

2	1	0	x
0.75	0.20	0.05	P(x)

$$E(X) = \sum_i x_i P(x_i) = \mu = 0 \cdot 0.05 + 1 \cdot 0.2 + 2 \cdot 0.75 = 1.7$$

$$V(X) = \sum_i (x_i - \mu)^2 P(x_i) = \sum_i x_i^2 P(x_i) - \mu^2 = 0^2 \cdot 0.05 + 1^2 \cdot 0.2 + 2^2 \cdot 0.75 - 1.7^2 = 0.31 = \sigma^2$$

$$\sigma_x = \sqrt{V(X)} = \sqrt{0.31} = 0.557$$

y	P_Y
0	0.2
1	0.8

$$E(y) = \sum_i y_i P(y_i) = 0 + 0.8 = 0.8$$

$$V(y) = \sum_i (y_i - \mu_y)^2 P(y_i) = \sum_i y_i^2 P(y_i) - \mu_y^2 = 0 + 0.8 - 0.8^2 = 0.16 = \sigma_y^2$$

$$\sigma_y = \sqrt{0.16} = 0.4$$

$$E(xy) = 0 \cdot 0 \cdot 0.05 + 0 \cdot 1 \cdot 0 + 1 \cdot 0 \cdot 0.15 + 1 \cdot 1 \cdot 0.05 + 2 \cdot 0 \cdot 0 + 2 \cdot 1 \cdot 0.75 = 1.55$$

$$\text{cov}(x, y) = E(x \cdot y) - E(x) \cdot E(y) = 1.55 - 1.7 \cdot 0.8 = 0.19$$

$$\rho = \frac{\text{cov}(x, y)}{\sigma_x \cdot \sigma_y} = \frac{0.19}{0.557 \cdot 0.4} = 0.853$$

כל קורס שהסטודנט מסיים מזכה אותו ב-3 נקודות אקדמאיות.
מה יהיה מקדם המתאם בין נקודות הזכות שיצבור למשתנה Y ?

תרגילים:

1. הסיכוי שסטודנט יעבור את מועד א בסטטיסטיקה הוא 0.8. אם הוא נכשל במועד א' הוא ניגש למועד ב' שם הסיכוי לעבור את המבחן מוערך להיות 0.9 (סטודנט שעובר את א' לא ניגש לב'). במידה והסטודנט נכשל במועד ב' הוא מגיש בקשה למועד ג' אותה מאשרים בסיכוי של 0.2. ואז הסיכוי שלו לעבור את מועד ג' הוא 0.7.
 - נגדיר את X להיות מספר המבחנים אליהם ניגש הסטודנט.
 - נגדיר את Y להיות מספר הנבחנים שנכשל בהם.
 - א. בנו את פונקציית ההסתברות המשותפת ואת פונ' ההסתברות השולית.
 - ב. האם המשתנים הינם בלתי תלויים?
 - ג. ידוע שהסטודנט ניגש ליותר ממבחן אחד, מה ההסתברות שהוא נכשל בפחות משלושה מבחנים?
 - ד. האם המתאם בין X ל- Y מלא או חלקי? חיובי או שלילי? הסבר ללא חישוב.
 - ה. חשבו את מקדם המתאם בין X לבין Y .
 - ו. האם המשתנים הם בלתי מתאומים?

2. מטילים מטבע שלוש פעמים. נגדיר את X להיות מספר העצים המתקבלים בשתי ההטלות הראשונות ואת Y להיות מספר העצים המתקבלים בשתי ההטלות האחרונות.
 - א. בנו את פונקציית ההסתברות המשותפת של X ו- Y ואת פונקציות ההסתברות השוליות.
 - ב. האם X ו- Y הם משתנים בלתי תלויים?
 - ג. מהו מקדם המתאם בין X ל- Y . האם המשתנים מתאומים?
 - ד. אם בשתי ההטלות הראשונות יצא בדיוק עץ אחד, מה ההסתברות שבשתי ההטלות האחרונות יצאו שני עצים?
 - ה. אם בשתי ההטלות האחרונות יצא לפחות פעם אחת עץ, מה ההסתברות שבשתי ההטלות הראשונות יצא עץ אחד?

3. מפזרים שלושה כדורים שונים בשלושה תאים.
 - נגדיר את המשתנים הבאים:
 - X = מספר הכדורים בתא הראשון.
 - Y = מספר הכדורים בתא השני.
 - א. בנו את פונקציית ההסתברות המשותפת.
 - ב. האם המשתנים בלתי מתאומים?

4. מטילים קובייה הוגנת פעמיים.

יהי $X =$ ההטלה הגדולה מבין שתי התוצאות

$Y =$ מס' ההטלות בהן יצאה תוצאה זוגית.

א. מצא את פונקצית ההסתברות המשותפת של X ו- Y .

ב. חשבו את מקדם המתאם של X ו- Y .

ג. מצאו את ההתפלגות של Y בהינתן ש- $X=2$.

5. בבניין בן 5 דירות. דירות מספר אחת ושלוש הן דירות משופצות והשאר אינן. הוחלט

לבחור שתי דירות באקראי מבין הדירות בבניין. נגדיר את המשתנים הבאים :

X - מספר הדירות המשופצות שנבחרו.

Y - מספר הדירות האי זוגיות שנדגמו.

א. בנו את פונקצית ההסתברות המשותפת ואת פונקציות ההסתברות השוליות.

ב. האם המשתנים מתואמים?

ג. מה מקדם המתאם בין X לבין Y ?

ד. מה יהיה מקדם המתאם :

1. בין מספר הדירות המשופצות למספר הדירות הזוגיות שנדגמו.

2. בין מספר הדירות הזוגיות לדירות האי זוגיות שנדגמו.

ה. כל דירה משופצת עולה 2 מיליון שקלים, כל דירה לא משופצת עולה 1.5 מיליון

שקלים. מה המתאם בין עלות הדירות שנדגמו למספר הדירות הזוגיות?

פתרונות :**שאלה 1 :**

ג. 0.994

ה. 0.963

שאלה 2 :

ב. תלויים.

ג. מקדם המתאם : 0.5. מתואמים

ד. 0.25

ה. 0.5

שאלה 3 :

ב. מתואמים

שאלה 4 :

ב. 0.252

שאלה 5 :

ב. X ו-Y מתואמים.

ג. $\frac{2}{3}$ ד.1. $-\frac{2}{3}$

ד.2. (-1)

ה. $-\frac{2}{3}$

פרק 26 - המשתנה המקרי הדו ממדי - קומבינציות לנאריות

רקע:

תוחלת ושונות של סכום משתנים :

$$E(X + Y) = E(X) + E(Y)$$

$$V(X + Y) = V(X) + V(Y) + 2 \cdot COV(X, Y)$$

תוחלת ושונות של הפרש משתנים :

$$E(X - Y) = E(X) - E(Y)$$

$$V(X - Y) = V(X) + V(Y) - 2 \cdot COV(X, Y)$$

קומבינציות לינאריות:

יוצרים משתנה חדש שהוא קומבינציה לינארית של שני משתנים אחרים:

$$W = (aX + b) + (cY + d)$$

$$COV[(aX + b), (cY + d)] = a \cdot c \cdot COV(X, Y)$$

$$E(W) = E((aX + b) + (cY + d)) = aE(X) + b + cE(Y) + d$$

$$V(W) = V((aX + b) + (cY + d)) = a^2V(X) + c^2V(Y) + 2 \cdot a \cdot c \cdot COV(X, Y)$$

דוגמה: (פתרון בהקלטה)

עבור שני משתנים מקריים נתון :

$$\mu_X = 80$$

$$\sigma_X = 15$$

$$\mu_Y = 70$$

$$\sigma_Y = 20$$

$$COV(X, Y) = 200$$

- מצא את התוחלת והשונות של סכום המשתנים.
- מצא את התוחלת והשונות של $Y - X$.
- מצא את השונות ומה התוחלת של המשתנה $W = 2X + 3Y$

תרגילים:

1. נתונה פונקצית ההסתברות המשותפת הבאה:

Y\X	1	2	3	P(Y)
2		0.1	0.3	0.6
3	0.2		0.1	
P(X)				

א. השלם את ההסתברויות החסרות.

ב. האם המשתנים תלויים?

ג. האם המשתנים בלתי מתואמים?

ד. חשב את השונות המשותפת.

ה. חשב את התוחלת והשונות של סכום המשתנים.

ו. חשב את התוחלת והשונות של הפרש המשתנים.

2. מבחן בנוי מחלק כמותי וחלק מילולי. תוחלת הציון בחלק הכמותי היא 100 עם סטיית תקן 20. תוחלת הציונים בחלק המילולי 90 עם סטיית תקן 15. מקדם המתאם בין הציון הכמותי לציון המילולי הוא 0.8.

א. חשבו את השונות המשותפת בין הציון הכמותי לציון המילולי.

ב. חשבו את התוחלת והשונות של סכום הציונים בחלק הכמותי ובחלק המילולי.

ג. חשבו את התוחלת והשונות של הפרש הציונים בין החלק הכמותי לחלק המילולי.

ד. עלות הבחינה 2000 שקלים. הוחלט לזכות שקל עבור כל נקודה שנצברה בחלק המילולי ושני שקלים עבור כל נקודה שנצברה בחלק הכמותי. מהי התוחלת ומהי השונות של עלות הבחינה נטו (העלות לאחר הזיכוי)?

3. נתון: $\text{Var}(X-2Y)=2$. $\text{Var}(X+2Y)=3$. חשבו: $\text{Cov}(X,Y)$.

4. מטילים קובייה n פעמים.

נגדיר את המשתנים הבאים:

$X =$ מספר הפעמים שהתקבלה התוצאה 6.

$Y =$ מספר הפעמים שהתקבלה התוצאה 5

בטאו את השונות המשותפת באמצעות n.

פתרונות :**שאלה 1:**

ב. תלויים

ג. מתואמים.

ד. -0.1 ה. תוחלת : 4.4 , שונות : 0.84 ו. תוחלת : -0.4 , שונות : 1.24 **שאלה 2:**א. 240 ב. תוחלת: 190 שונות: 1105 ג. תוחלת: 10 שונות: 145 ד. תוחלת: 1710 שונות: 2785 **שאלה 3:** -0.125 **שאלה 4** $\frac{-n}{36}$ 36